

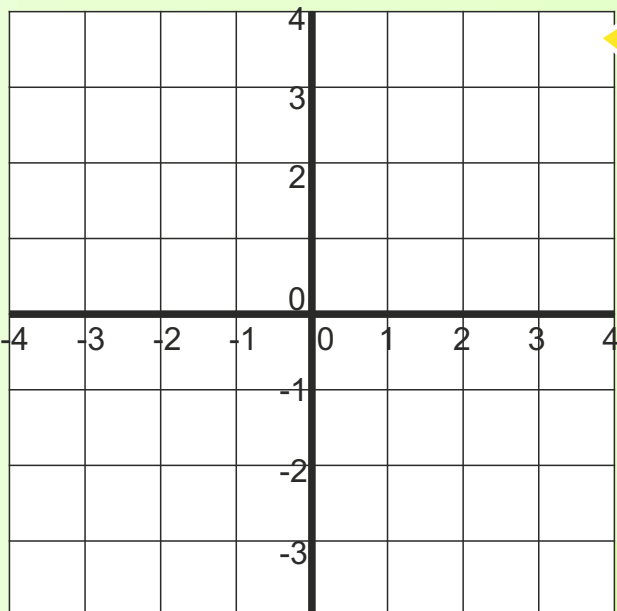
Regnskoven 5

Navn: _____

Tre boller koster 12 kr., og 2 kopper kaffe koster 18 kr.

1. Hvad koster en bolle og en kop kaffe? _____ kr.

2. Hvad koster 4 boller og 3 kopper kaffe? _____ kr.



7. $6,8 + 5,32 =$ _____

8. $1105 - 367 =$ _____

9. $7 \cdot 108 =$ _____

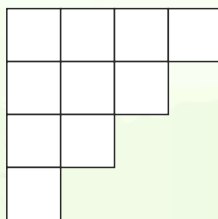
10. $552 : 8 =$ _____

11. Tegn streger fra:
 $(3;-3) \rightarrow (-3;3) \rightarrow (3;3) \rightarrow (3;-3)$

12. Hvilken figur har du tegnet? _____

13. Hvad er arealet af figuren? _____ cm^2

14. Farv $\frac{3}{5}$ af figuren.



15. Sortér efter størrelse:

1,4 1,32 1,309

Afrund til nærmeste 10'er.

3. $763 \approx$ _____

4. $8537 \approx$ _____

Se på figuren.



5. Arealet af den farvede figur

$=$ _____ cm^2

6. Omkredsen af den farvede figur

$=$ _____ cm

16. $\frac{1}{3} + \frac{2}{6} =$ _____



17. Farv 100'erne røde og 1'erne blå.


538,45

18. Hvad er 1% af 50 kr.? _____

19. Hvad er 2,5% af 200 kr.? _____

20. Kaktussens højde, hvis den er tegnet i 1:50?

_____ meter



Point