

Regnskoven 7



Navn: _____

1. $\frac{1}{2}$ af 30 = _____

2. $\frac{1}{4}$ af 40 = _____

3. $\frac{1}{3}$ af 60 = _____

Aben Ib er 22 cm højere end aben Bent, der er 50 cm høj. Aben Gunnar er halvt så høj som Ib.

12. Hvor høj er Ib? _____ cm

13. Hvor høj er Gunnar? _____ cm

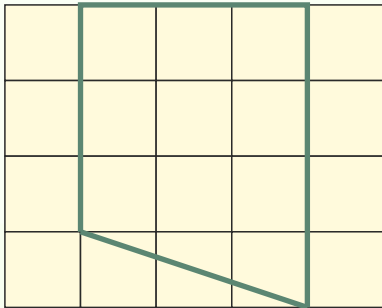
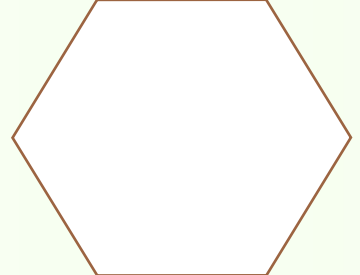

4. $5,85 + 7,3$ = _____

5. $1002 - 325$ = _____

6. $248 : 8$ = _____

7. $8 : 2 + 5 \cdot 3$ = _____

14. Tegn diagonaler i figurerne.



8. Hvad er arealet af figuren, når hvert kvadrat er $1 \cdot 1$ cm?

= _____ cm^2



15. 400 g = _____ kg

16. 7000 kg = _____ ton

17. 0,4 ton = _____ kg

18. Skriv de 6 forskellige trecifrede tal, der kan dannes med cifrene 2, 4 og 8:

9. Hvad er 1 % af 150 kr.? _____

10. Hvad er 8 % af 200 kr.? _____

19. Find det dobbelte af 345. _____

20. Find det halve af 890. _____

11. Hvor langt er frøen og kaktussen fra hinanden i km, hvis 1 cm er 300 m?



_____ km

Point