

Regnskoven 8

Navn: _____

1. $783 + 783 =$ _____

2. $950 - 385 =$ _____

3. $6 \cdot 417 =$ _____

4. $(5 + 11) \cdot 4 =$ _____

Afrund til nærmeste 1000'er.

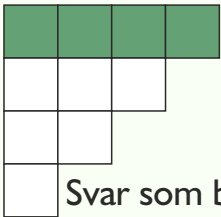
9. $7463 \approx$ _____

10. $86437 \approx$ _____



11. $\frac{4}{9} + \frac{1}{3} =$ _____

5. Hvor meget af figuren er farvet?
(Forkort mest muligt.)



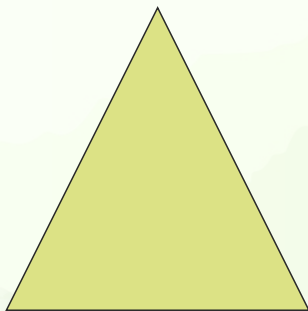
Svar som brøk: _____

Du har et normalt sæt spillekort (52 stk.) uden jokere.
Skriv svaret som brøk.

12. Hvad er sandsynligheden for at trække en dronning? _____

13. Hvad er sandsynligheden for at trække en ruder? _____

14. Hvad er sandsynligheden ikke at trække en 10'er? _____



6. Hvad er arealet af trekanten?

= _____ cm^2

7. Udfyld talrækken.

	1,1	0,9		0,5
--	-----	-----	--	-----

				19
				20
				16
				24

15. = _____


16. = _____

17. = _____

18. Find det halve af 340. _____

19. Find det dobbelte af 187. _____

20. Tegn slangen i størrelsesforhold 1:2.



Point