

Regnskoven 22

Navn: _____

1. $5657 + 2908 =$ _____

2. $831 - 602 =$ _____

3. $16 : (2 + 2) =$ _____

Sæt $>$ $<$ eller $=$

5. $450 \text{ g} \square 4,5 \text{ kg}$

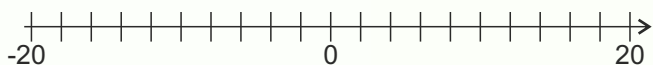
6. $5^2 \square 2^5$

7. Et kvadrat har et areal på 49 cm^2 .

Sidelængden = _____ cm

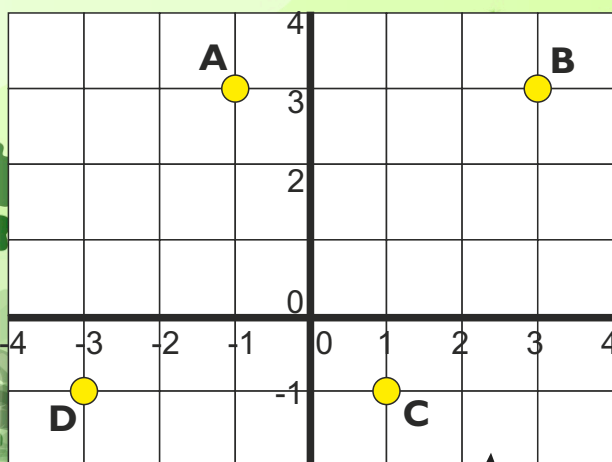
4. Afsæt tallene korrekt på tallinjen.

-4 8 -16 14



10. En trekant er 8 cm høj og har en grundlinje på 4 cm.

Hvad er arealet af trekanten? _____ cm^2



14. Skriv koordinaterne til:

A (____; ____) B (____; ____) C (____; ____) D (____; ____)

15. Sæt streger fra A \rightarrow B \rightarrow C \rightarrow D \rightarrow A

16. Hvad kaldes den figur, der dannes?

17. Hvad er arealet af figuren? _____ cm^2

Læs og svar

Gunner er 56 år gammel.


Birgers alder er tre fjerdele af Gunners.

Bentes alder er halvdelen af Birgers.

8. Hvor gammel er Birger? _____ år

9. Hvor gammel er Bente? _____ år

Du slår med to terninger.
Hvad er sandsynligheden for ...
(Svar med brøk.)



11. At slå 2 ens ... _____

12. At slå summen 7 ... _____


13. At slå summen 12 ... _____

Omskriv til brøk.

18. $0,2 =$ _____

19. $75\% =$ _____

20. $2 : 8 =$ _____



Point