

1. $13 + 9 = \underline{\hspace{2cm}}$

2. $26 - 10 = \underline{\hspace{2cm}}$

3. $8 + 8 - 5 = \underline{\hspace{2cm}}$

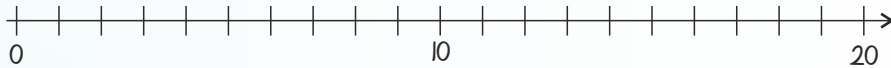
Hvor lange er stregerne?

5.  $\underline{\hspace{2cm}}$ cm

6.  $\underline{\hspace{2cm}}$ cm

4. Sæt streger til tallinjen.

2 13 7 16

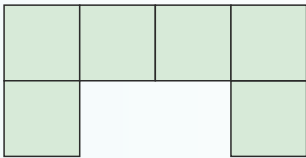


Det dobbelte ...

7. $12 \rightarrow \underline{\hspace{2cm}}$

8. $55 \rightarrow \underline{\hspace{2cm}}$

Se på figuren og find:



9. Arealet

$= \underline{\hspace{2cm}}$ cm²

10. Omkredsen

$= \underline{\hspace{2cm}}$ cm

11. Hvad er fiskenes samlede værdi?

 +  = $\underline{\hspace{2cm}}$

 +  = $\underline{\hspace{2cm}}$

 = 7

 = 12

 = 21

Fortsæt talrækkerne.

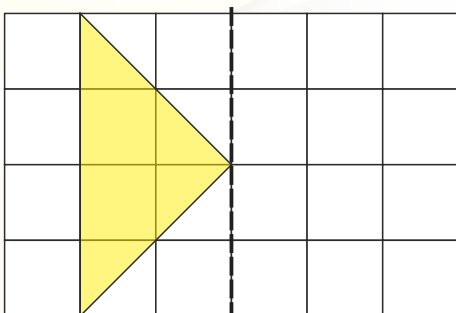
13.

11			14		
----	--	--	----	--	--

14.

	27		29		
--	----	--	----	--	--

12. Spejl figuren.



15. Fortsæt mønstret.

