


1. Opstil som plusstykke og regn.



\_\_\_\_\_ + \_\_\_\_\_ = \_\_\_\_\_

Fortsæt talrækkerne.

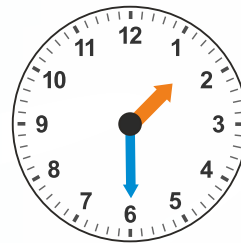
5. 

12	15	18		24	
----	----	----	--	----	--

6. 

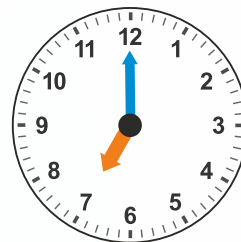
	20	25		35	
--	----	----	--	----	--

7. Hvad er klokken?




:

8. Hvad er klokken?



:

9. Løs pluspyramiden.



Udfyld, så stykkerne passer.

13. 


12	+		=	16
----	---	--	---	----

14. 

2	·		=	16
---	---	--	---	----

15. 

23	-		=	16
----	---	--	---	----



2.  $211 + 55 =$  \_\_\_\_\_

3.  $67 - 16 =$  \_\_\_\_\_

4.  $3 \cdot 7 =$  \_\_\_\_\_

Jeg har spist 27 rejer ...

Jeg har spist 12 ...



Udfyld, så stykkerne passer.

10. Farv den fisk, der har spist færrest rejer, rød.

11. Hvor mange rejer har de spist tilsammen? \_\_\_\_\_ stk.

12. Hvad er forskellen i spiste rejer? \_\_\_\_\_ stk.

