


1. Skriv disse fire tal på linjen efter størrelse. Mindste tal først.

60 14 123 9

2. Hvor mange penge er der?



_____ kr.

Spørgsmålstegnet er lig med ...

3. $16 + ? = 30$ $? =$ _____

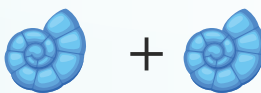

4. $40 - ? = 15$ $? =$ _____



5. $132 + 18 =$ _____

6. $60 - 31 =$ _____

7. $15 + 12 - 7 =$ _____

Hvad er værdien?

 +  = 22

 +  = 31

 -  = 12

8.  = _____

9.  = _____

10.  = _____

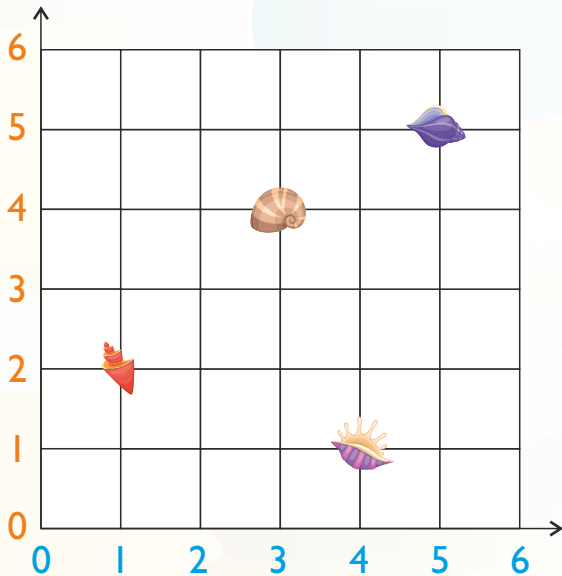
15. Tegn stregerne ...

8 cm

11 cm



Skriv koordinaterne ...



11.  (____, ____)

12.  (____, ____)

13.  (____, ____)

14.  (____, ____)