

1. $45 + 37 =$ _____

2. $48 - 23 =$ _____

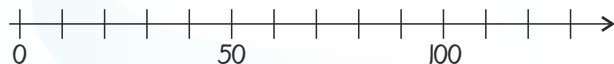
3. $9 + 9 + 9 =$ _____

4. Sæt streger til tallinjen.

30

70

130



Lise er 8 år. Lises bror Hektor er halvt så gammel. Lises far er 10 gange så gammel som Hektor.

5. Hvor gammel er Hektor? _____ år

6. Hvor gammel er Lises far? _____ år

Sæt $>$, $<$ eller $=$

7. 398 389

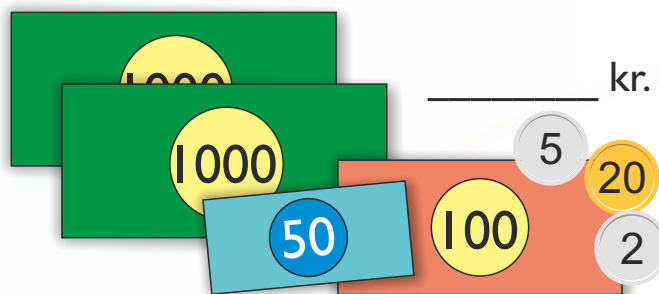
8. $30 + 1$ $20 + 2$

Afrund til nærmeste 10'er.

10. $15 \approx$ _____

11. $142 \approx$ _____

9. Hvor mange penge er der?



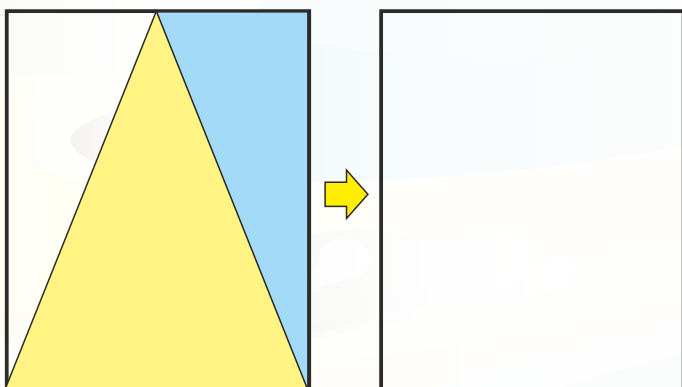
Se på tallene:

73 39 19 89

14. Hvilket tal er størst? _____

15. Hvilket tal er mindst? _____

12. Tegn det samme.



13. Fortsæt mønstret.

