

1. $135 + 65 = \underline{\hspace{2cm}}$

2. $99 - 66 = \underline{\hspace{2cm}}$

3. $9 + 8 - 7 = \underline{\hspace{2cm}}$

Hvad er det dobbelte?
Og det dobbelte igen?

4. $5 \rightarrow \underline{\hspace{1cm}} \rightarrow \underline{\hspace{1cm}}$

5. $15 \rightarrow \underline{\hspace{1cm}} \rightarrow \underline{\hspace{1cm}}$

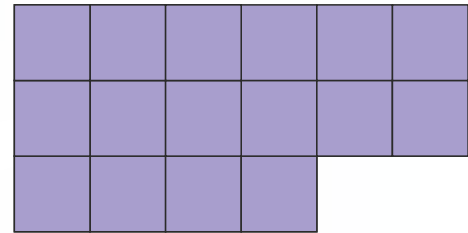
Hvad skal der stå, for at stykkerne passer?

6. $21 + \underline{\hspace{1cm}} = 32$ 7. $\underline{\hspace{1cm}} - 8 = 12$

8. Fortsæt mønstret.



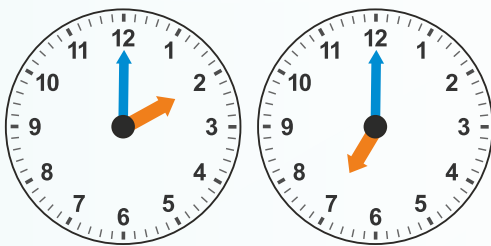
Se på figuren.



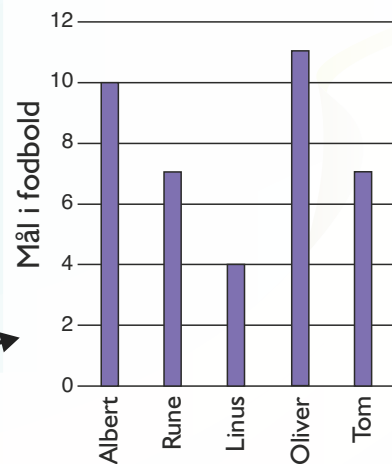
9. Arealet er = $\underline{\hspace{1cm}}$ cm^2

10. Omkredsen er = $\underline{\hspace{1cm}}$ cm

11. Hvor lang tid er der gået?



= $\underline{\hspace{1cm}}$ timer



Fem drenge spiller på samme hold i fodbold.
Her kan du se, hvor mange mål de har scoret.

12. Hvem har scoret flest mål? $\underline{\hspace{2cm}}$

13. Hvem har scoret lige mange mål? $\underline{\hspace{2cm}}$ og $\underline{\hspace{2cm}}$

14. Hvor mange mål har Linus scoret færre end Albert? $\underline{\hspace{1cm}}$ mål

15. Hvor mange mål har de fem drenge scoret i alt? $\underline{\hspace{1cm}}$ mål