

Hvad er værdien?

$$\text{Coral} + \text{Coral} = 18$$

$$\text{Yellow Coral} + \text{Coral} = 29$$

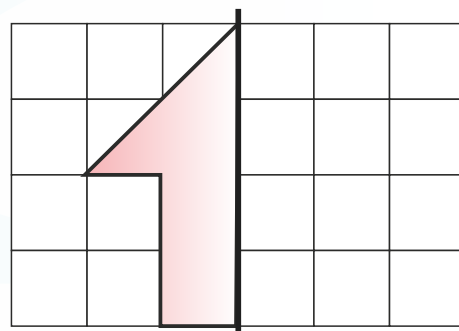
$$\text{Yellow Coral} - \text{Pink Coral} = 15$$

1.  = _____

2.  = _____

3.  = _____

4. Spejl figuren.



Fortsæt talrækkerne.

5.

	97	98		
--	----	----	--	--

6.

4	8		16	
---	---	--	----	--

Mads er dobbelt så høj som Trine.
Trine er 81 cm høj.




7. Hvor høj er Mads? _____ cm

8. $16 + 86 =$ _____

9. $200 - 88 =$ _____

10. $30 + 30 - 8 =$ _____

I hvilke felter finder du ...?

5					
4					
3					
2					
1					
	A	B	C	D	E

8.  _____

9.  _____

10.  _____ og _____

11. Fortsæt mønstret.

○	○	×	○	○				
○	○	○	○	○				
×	○	○	○	×				

15. Hvor lang tid er der gået?



= _____ timer