


1. $6 + 28 = \underline{\hspace{2cm}}$

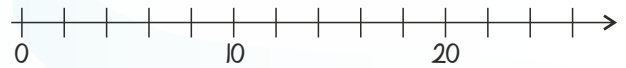
2. $40 - 25 = \underline{\hspace{2cm}}$

3. $10 + 10 - 7 = \underline{\hspace{2cm}}$






5. Sæt streger til tallinjen.



8 4 16 24



4. Hvad er fiskenes værdi?

 +  = 8

 =

 -  = 14

 =

100 mindre og 100 mere:


6.

	243	
--	-----	--

7.

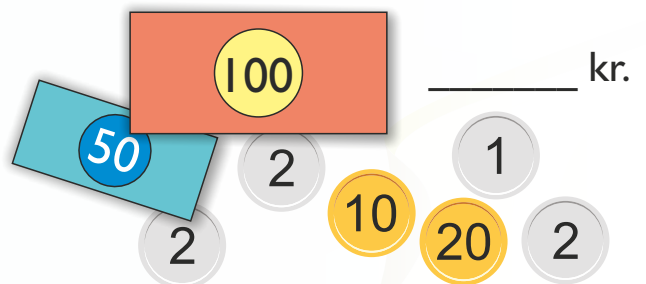
	107	
--	-----	--

8. Hvor mange rejer til hver fisk?



stk.

9. Hvor mange penge er der?



10. Sæt visere på uret.



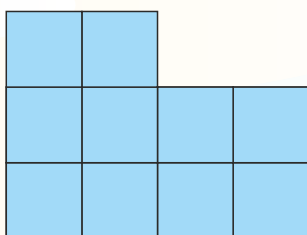
09:00

Det dobbelte ...

11. $9 \rightarrow \underline{\hspace{2cm}}$

12. $45 \rightarrow \underline{\hspace{2cm}}$

13. Halvér figuren.



14. Arealet af den blå figur: cm²

15. Omkredsen af den blå figur: cm

Husk at udskrive uden skalering, da målene ellers ikke passer med hele cm.