

Hvor lange er stregerne?



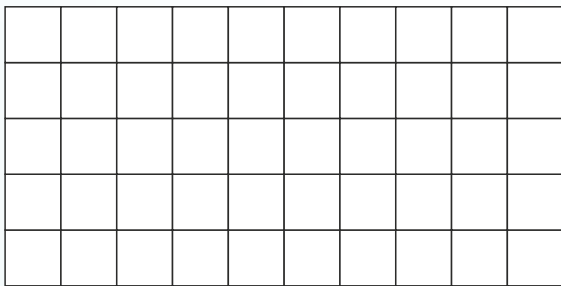
3. 1,5 m = \_\_\_\_\_ cm

4. 60 min. = \_\_\_\_\_ time


5. 4 cm = \_\_\_\_\_ mm

6. Farv og regn, så det passer.


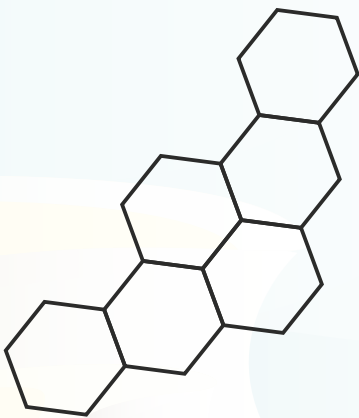
32 + \_\_\_\_\_ = 50



Fortsæt talrækkerne.



9. Farv halvdelen.





10. Sæt ring om de ulige tal.


3   5   8   9   30  
12   17   18   22   39

11. Hvad er fiskenes værdi?

 +  = 12

 -  = 10

 = \_\_\_\_\_

 = \_\_\_\_\_

12.  $12 + 33 =$  \_\_\_\_\_

13.  $36 - 14 =$  \_\_\_\_\_

14.  $8 + 8 + 8 =$  \_\_\_\_\_

15. Fortsæt mønstret.

