

REGNCRAFT 36

1. $44,05 + 18,5 =$ _____

2. $0,84 - 0,56 =$ _____

3. $-905 + 1344 =$ _____


4. $10,5 \cdot 34 =$ _____

5. $6,8 \cdot 7,9 =$ _____

6. $150 \text{ ml} =$ _____ cl

7. $5,4 \text{ dm} =$ _____ mm

8. $805 \text{ kg} =$ _____ t.



Rie har sammen med Johan og Emma uddelt aviser. De har tilsammen tjent 1200 kr. Pengene skal fordeles således:

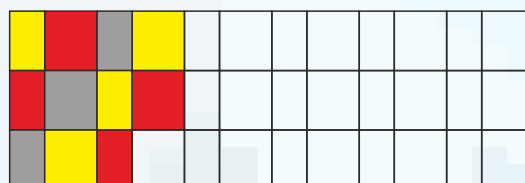
Rie $\frac{4}{8}$ Johan $\frac{1}{8}$ Emma $\frac{3}{8}$

10. Hvor mange penge får Rie? _____ kr.

11. Hvor mange penge får Johan? _____ kr.

12. Hvor mange penge får Emma? _____ kr.

9. Fortsæt mønsteret.



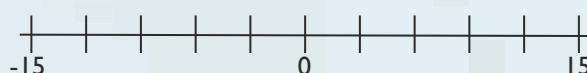
Hvor lang tid går der fra ...

14. Kl. 23:20 til kl. 14:15? = _____ t. og _____ min.

15. Kl. 07:45 til kl. 14:30? = _____ t. og _____ min.

13. Træk streger fra tallene til tallinjen.

-9 6 -3 12



Omskriv til brøk og procent.

16. $0,4 =$ _____ = _____ %

17. $0,25 =$ _____ = _____ %

18. Hvis 20% er lig med 120 kr., hvad er så 50 procent lig med?

_____ kr.

Tirsdag	14
Onsdag	23
Torsdag	40
Fredag	53
Lørdag	45

Emilie har oprettet sin egen hjemmeside. I skemaet kan du se antallet af brugere de første 5 dage, siden var online.

19. Hvilken dag kom siden online? _____

20. Antal brugere de første 5 dage: _____

21. Gennemsnit pr. dag: _____

22. Variationsbredden: _____

Jørgen har købt et flag. Det har de mål, du kan se her. Omsæt målene til cm og svar på spørgsmålene.

23. Hvad er flagets areal? = _____ cm^2

24. Hvad er flagets omkreds? = _____ cm

Arealet af de røde områder er 6656 cm^2 .

25. Hvad er arealet af det hvide område? = _____ cm^2

