

REGNCRAFT 40

- 2500 cl = _____ l
- 5 dl = _____ cl
- 80000 g = _____ t

Sammy har tjent 565 kr., Alice har tjent 1042 kr., og Erik har tjent 343 kr.

- Hvad er forskellen i indtjening mellem Alice og Erik? _____ kr.
- Hvad har de tre tjent tilsammen? _____ kr.
- Hvad har de gennemsnitligt tjent? _____ kr.

Valutakursen på Pund (£) er kr. 8,50.
Hvis du ikke skal betale et vekselgebyr,
hvor mange hele Pund kan du så få for ...

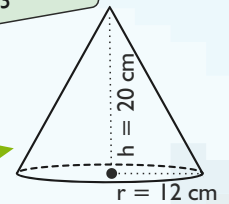
- 8500 kr. = _____ £
- 2550 kr. = _____ £

9. Sortér efter størrelse.
Mindste først:

3,1 2² -3 √9


$$G_{\text{cirkel}} = \pi \cdot r^2$$

$$V = \frac{1}{3} \cdot h \cdot G$$



Se på skitsen og svar. ($\pi = 3$)

- Hvad er keglens diameter? _____ cm
- Hvad er keglens rumfang? _____ cm³

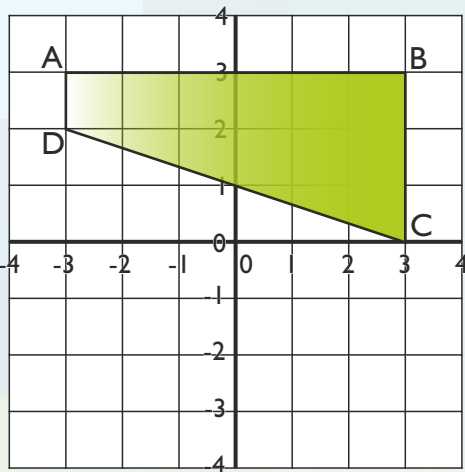


- 1% af 6700 kr. = _____ kr.
- 19% af 2500 kr. = _____ kr.
- 150% af 3100 kr. = _____ kr.

Find værdien af de forskellige figurer.


				44
				26
				48
				33
40	44	20	47	

- = _____
- = _____
- = _____
- = _____



- $0,55 \cdot 45,5 =$ _____
- $12 : 1,2 =$ _____

25. Indsæt tallene 1, 2, 3, 4 og 5,
så værdien i ovalerne adderet er
9 vandret og lodret.



21. Skriv koordinaterne til firkant ABCD:

A (____; ____), B (____; ____), C (____; ____), D (____; ____)

22. Hvis et felt er 1 cm², hvad er da arealet af firkant ABCD? _____ cm²

23. Spejl firkant ABCD i x-aksen.

24. Koordinaterne til spejlingen er:

A₁ (____; ____), B₁ (____; ____), C₁ (____; ____), D₁ (____; ____)

Point