

Herunder er nogle plus-stykker. Du skal sætte en prik ved det **største** tal. Det andet tal skal du dele i to dele: Afstanden fra største tal op til nærmeste 10'ere - og resten. Hop nu på tallinjen med "pause" på 10'eren.

ØV DIG

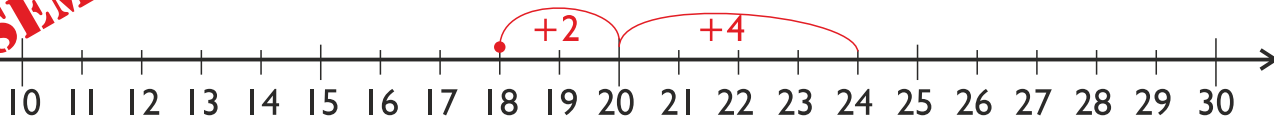
Plus med tallinje 1B

(hop til 10 og videre)

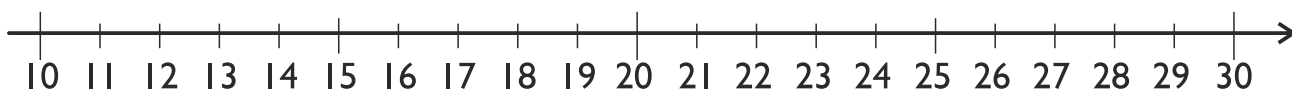
MED MATTIP

**EKSEMPEL**

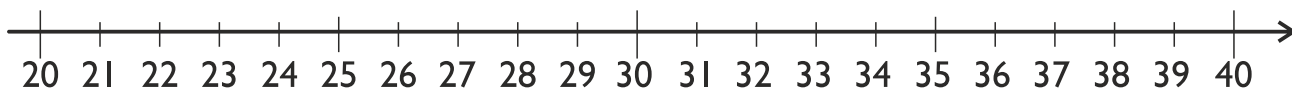
$$18 + 6 = 18 + 2 + 4 = 24$$



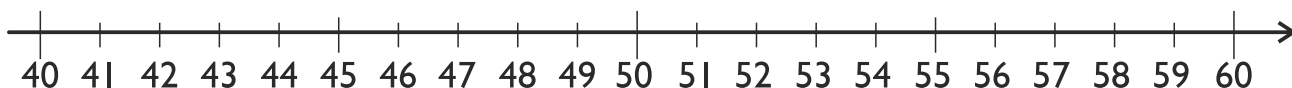
$$17 + 5 =$$



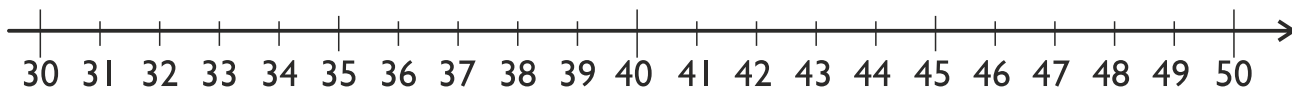
$$23 + 9 =$$



$$44 + 8 =$$



$$35 + 8 =$$



$$28 + 9 =$$

