



# Arealer 1

## Opgave 1


Tegn/farv et kvadrat med et areal på:



Areal = 36



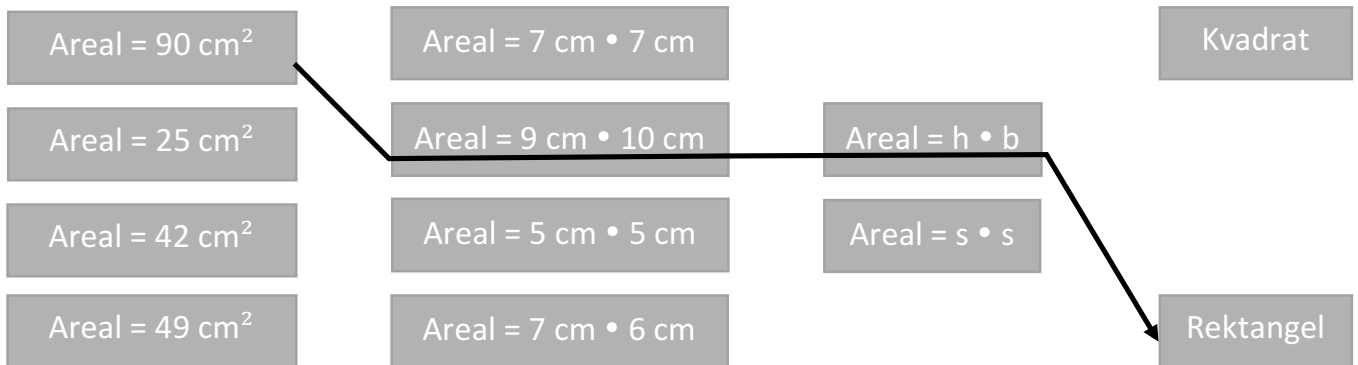
Areal = 49



Areal = 81

## Opgave 2

Tegn en streg fra arealet til den rigtige kasse:



## Opgave 3

Forsøg om du kan få følgende figurer til at passe ind i det store rektangel:

- Et kvadrat på 9 cm<sup>2</sup>.
- Et rektangel med en højde på 1 cm og en længde på 9 cm.
- Et kvadrat med sidelængderne 4 cm.
- Et rektangel på 6 cm<sup>2</sup>.
- Et rektangel som det viste herunder:

