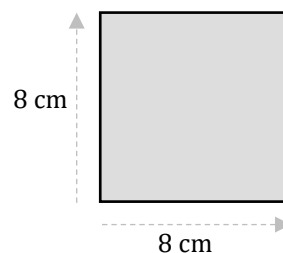


Arealer 8

Opgave 1

Hvad er arealet af et kvadrat med sidelængden 8 cm? _____ cm^2 .

Hvad er omkredsen af dette kvadrat? _____ cm.

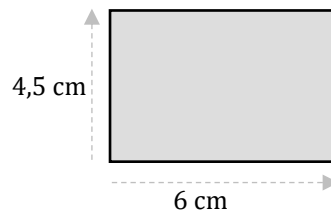


Opgave 2

Hvad er arealet af et rektangel med en bredde på 4,5 cm

og en længde på 6 cm? _____ cm^2 .

Hvad er omkredsen af dette rektangel? _____ cm.

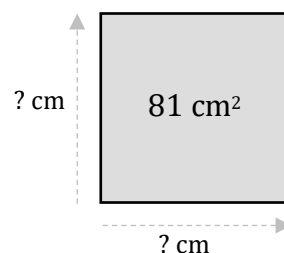


Opgave 3

Hvad er arealet af en trekant med en højde på 12 cm og en grundlinje på 6 cm? _____ cm^2 .

Opgave 4

Hvad er sidelængden af et kvadrat med arealet 81 cm^2 ? _____ cm.



Opgave 5

Hvad er bredden af et rektangel med arealet 42 cm^2 og længden 7 cm? _____ cm.

Opgave 6

Hvad er højden af en trekant med en grundlinje på 8 cm og et areal på 40 cm^2 ? _____ cm.

Opgave 7

Tegn en retvinklet trekant med et areal på 12 cm^2 , og et rektangel med sidelængderne 4 cm og 7 cm.

