

I teksten står noget matematik.  
Find matematikken og løs opgaven.

FAGLIG LÆSNING

**Blomster-  
butikken**

MED MATTIP

**Opgave 1**

I blomsterbutikken er der et stort udvalg af flotte blomster. Mathias vil købe nogle blomster til sin mormor for sine egne lommepenge.

Den røde blomst koster 7 kr., den hvide blomst koster 6 kr., og den lyserøde rose koster 12 kr.

**Hvor meget skal Mathias  
betale for blomsterne til mormor?**

kr.



**Opgave 2**

Det er forår, og Agnes kommer forbi blomsterbutikken, hvor de sælger de flotteste gule tulipaner. Hun vælger at købe en stor buket. Én tulipan koster 3 kr.

**Tæl tulipanerne i  
buketten og regn ud,  
hvad hele buketten koster.**

kr.



**Opgave 3**

Selma køber en flot blomst til sit værelse. Blomsten er i en fin potte, der ligner en vandkande. Blomsten og potten koster til sammen 125 kr. Vandkandepotten koster 64 kr.

**Hvor meget skal Selma betale for  
blomsten, hvis ikke hun ønsker  
at købe vandkandepotten med?**

kr.




**Opgave 4**

En rød tulipan koster 4 kr. i blomsterbutikken.

Mille vil gerne købe en buket tulipaner, og hun har 48 kr.

**Hvor mange tulipaner kan Mille købe?**


stk.



**Opgave 5**


Alma skal pynte et festbord med blomster. Hun skal vælge to slags blomster, men hun har fundet tre blomster, hun godt kan lide.

Hvor mange kombinationsmuligheder har Alma, når hun skal vælge blomster, og de to blomster skal være forskellige?

**Opgave 6**

Amina har selv sammensat en buket af 6 blomster, men blomsterne har forskellige priser. De gule blomster koster 6 kr. pr. stk. De grønne blomster koster 7 kr. pr. stk. Den blå blomst koster 4 kr. Den røde blomst koster 5 kr.

Hvad bliver prisen for buketten med de 6 blomster?

 kr.**Opgave 7**

Kristine, der arbejder i blomsterbutikken, sælger mange blomster på en dag. Mandag sælger hun for 4517 kr. blomster, og tirsdag sælger hun for 4228 kr.

Hvor mange penge sælger Kristine for på de to dage?

 kr.**Opgave 8**

Josefine køber en buket blomster i blomsterbutikken. Buketten koster 62 kr. Hun køber også en flot vase til blomsterne. Vasen koster 124 kr.

Hvad skal Josefine betale for buketten og vasen?

 kr.