


Cirklen 2

Find radius og diameter


Opgave 1. Kig på cirklen.

- Vis hvor centrum er.
- Mål radius, tegn den på cirklen, og skriv det du måler.
- Find diameteren og tegn den på cirklen.
- Skriv enheder på dine mål.




Opgave 2. Kig på cirklen.

- Vis hvor centrum er.
- Mål radius, tegn den på cirklen, og skriv det du måler.
- Find diameteren og tegn den på cirklen.
- Skriv enheder på dine mål.



Opgave 3. Kig på cirklen.

- Vis hvor centrum er.
- Mål radius, tegn den på cirklen, og skriv det du måler.
- Find diameteren og tegn den på cirklen.
- Skriv enheder på dine mål.



Opgave 4

- Tegn en cirkel i dit hæfte, hvor du selv bestemmer radius.
- Vis hvor centrum er.
- Vis hvad radius på cirklen er.
- Vis diameteren og skriv mål på den.

