


# Cirklen 3

## Find radius og diameter


Opgave 1. Kig på cirklen.

- Vis hvor centrum er.
- Mål radius, tegn den på cirklen, og skriv det du måler.
- Find diameteren og tegn den på cirklen.
- Skriv enheder på dine mål.




Opgave 2. Kig på cirklen.

- Vis hvor centrum er.
- Mål radius, tegn den på cirklen, og skriv det du måler.
- Find diameteren og tegn den på cirklen.
- Skriv enheder på dine mål.



Opgave 3. Kig på cirklen.

- Vis hvor centrum er.
- Mål radius, tegn den på cirklen, og skriv det du måler.
- Find diameteren og tegn den på cirklen.
- Skriv enheder på dine mål.



Opgave 4

- Tegn en cirkel med radius = 2,5 cm i dit hæfte.
- Vis hvor centrum er.
- Tegn radius ind på cirklen.
- Mål diameteren og tegn den ind på cirklen.
- Beregn omkredsen på cirklen.

