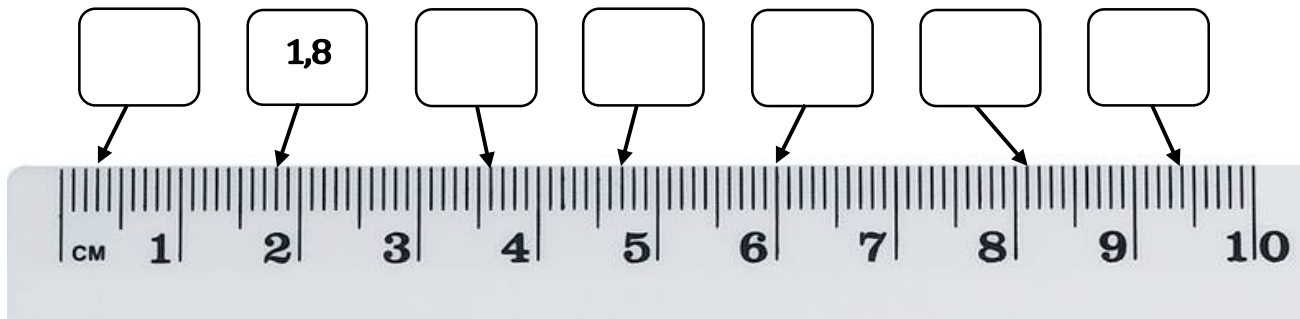


Decimaltal 4

Elevark

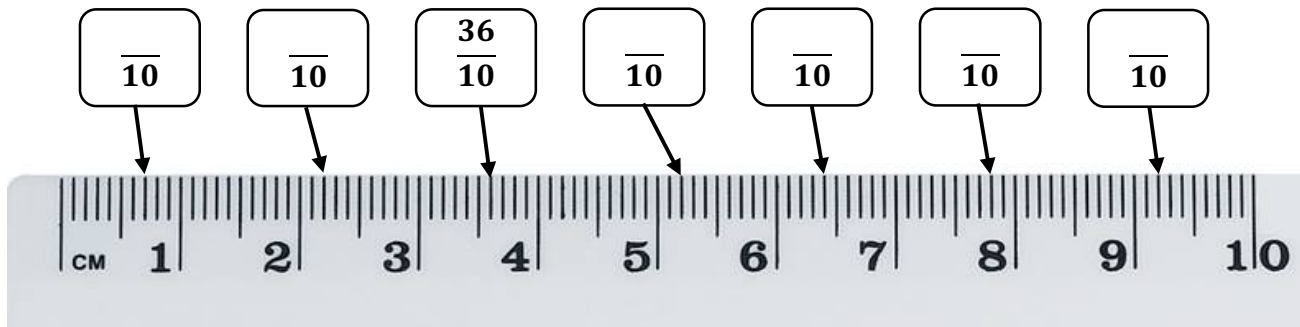
Opgave 1

Skriv det decimaltal pilen peger på i kassen over linealen:



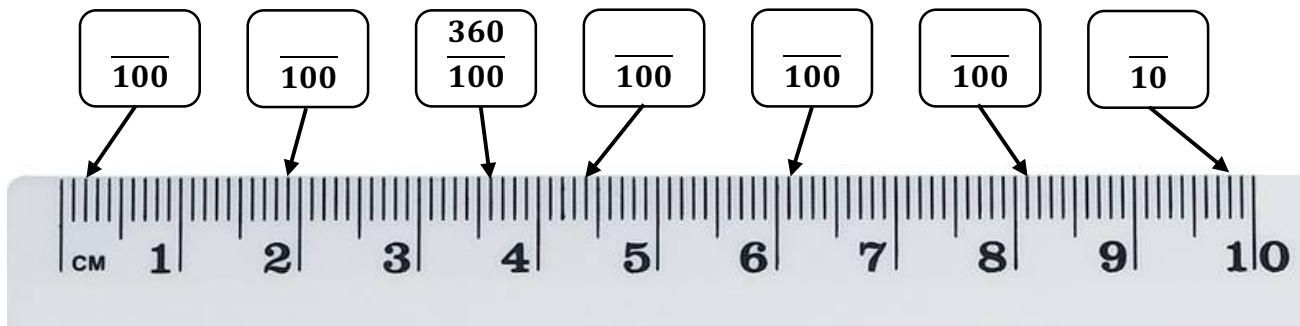
Opgave 2

Gør brøklinjen færdig ved at skrive det rigtige tal i tælleren:



Opgave 3

Gør brøklinjen færdig ved at skrive det rigtige tal i tælleren:



Opgave 4

Regn stykkerne og skriv som decimaltal:

a) $1,5 + \frac{1}{10} + \frac{27}{100} = \underline{\hspace{2cm}}$

b) $0,5 + \frac{4}{10} + \frac{340}{100} = \underline{\hspace{2cm}}$

c) $2,3 + \frac{17}{10} + \frac{240}{100} = \underline{\hspace{2cm}}$

