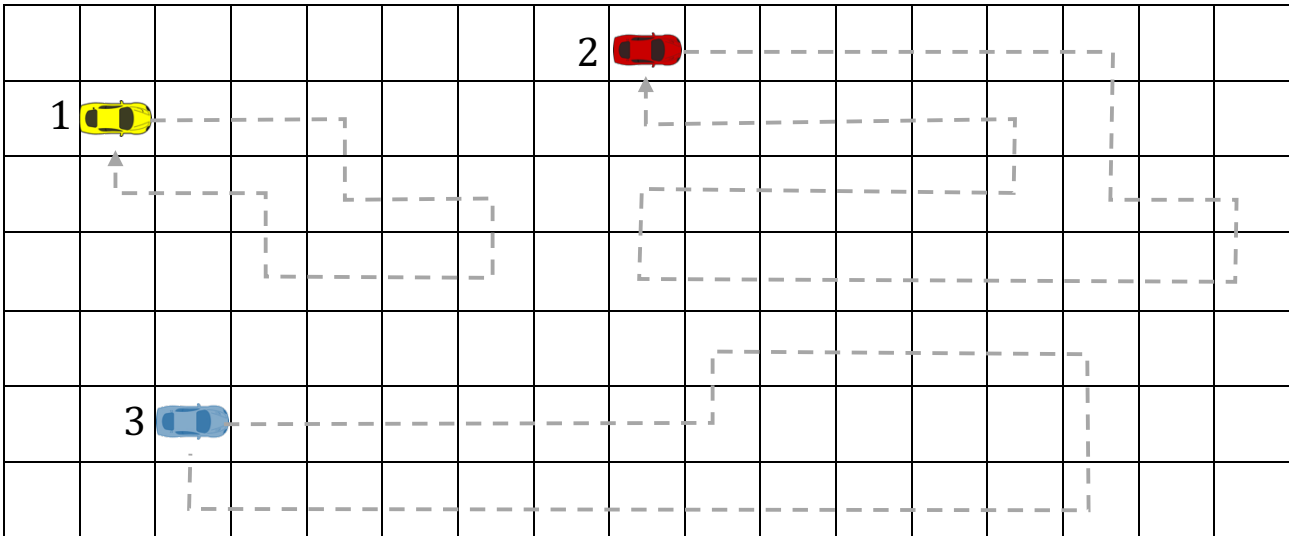


1 Farv områderne bilen kører igennem. Hvad er arealet og omkredsen af det område, bilerne kører igennem?

Figurer 4



Figur 1

Areal = \_\_\_\_ cm<sup>2</sup>

Omkreds = \_\_\_\_ cm

Figur 2

Areal = \_\_\_\_ cm<sup>2</sup>


Omkreds = \_\_\_\_ cm

Figur 3

Areal = \_\_\_\_ cm<sup>2</sup>

Omkreds = \_\_\_\_ cm

2 Tegn figuren og skriv derefter omkredsen.

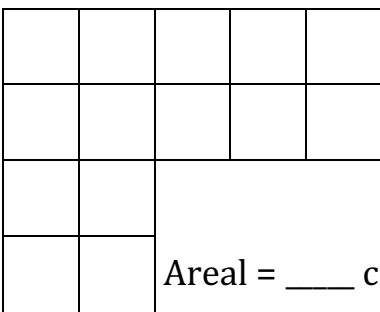


Figur A

Areal = 14 cm<sup>2</sup>


Omkreds = \_\_\_\_ cm

3 Farv halvdelen af arealet og find omkredsen af den figur, du har farvet.



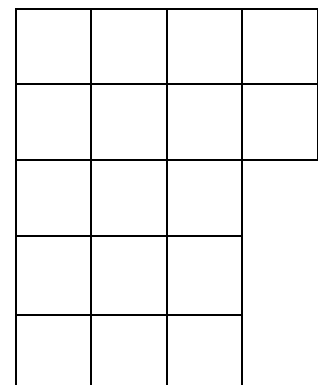
Areal = \_\_\_\_ cm<sup>2</sup>

Omkreds = \_\_\_\_ cm



Areal = \_\_\_\_ cm<sup>2</sup>

Omkreds = \_\_\_\_ cm



Areal = \_\_\_\_ cm<sup>2</sup>

Omkreds = \_\_\_\_ cm

