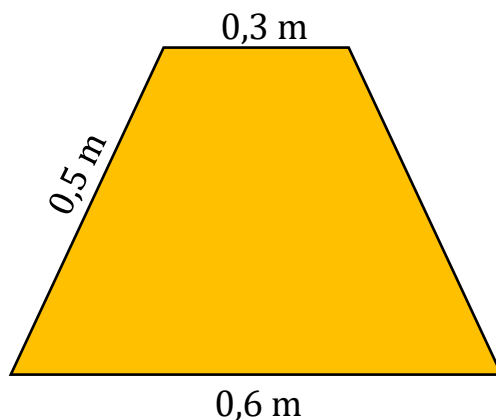
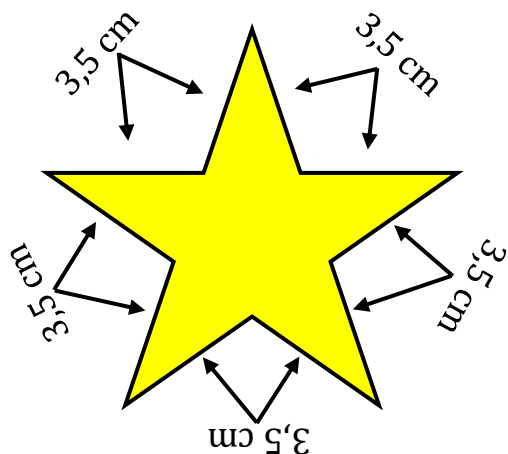


Geometri 1

Elevark

Find omkredsen af følgende figurer. Du skal ikke måle, men regne ud fra tallene angivet ved figurerne:

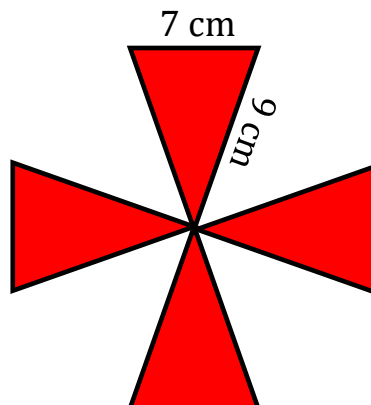
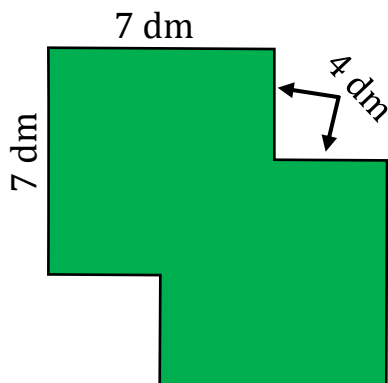


Beregn omkredsen (vis hvordan du regner):

svar: _____ cm

Beregn omkredsen (vis hvordan du regner):

svar: _____ m



Beregn omkredsen (vis hvordan du regner):

svar: _____ cm

Beregn omkredsen (vis hvordan du regner):

svar: _____ cm