

Geometri 6 – tegn og match

Klip opgaverne ud og fordel dem i klassen: ét sæt pr. bord. Løs opgaven og byt herefter kort og se, om I får det samme resultat. Når I har løst alle opgaver, tager I svarkortene og tjekker, om I har svaret rigtigt.

Opgave 1

Tegn en kube på papir.
Find derefter kortet "Kube" og se,
om I har løst opgaven rigtigt.

2019 © mattip.dk

Opgave 2

Tegn en pentagon på papir.
Find nu kortet "Pentagon" og se,
om I har løst opgaven rigtigt.

2019 © mattip.dk

Opgave 3

Tegn en ligebenet trekant på papir.
Find derefter kortet "Ligebenet
trekant" og se, om I har løst opgaven
rigtigt.

2019 © mattip.dk

Opgave 4

Tegn en pyramide på papir.
Find nu kortet "Pyramide" og se,
om du har løst opgaven rigtigt.

2019 © mattip.dk

Opgave 5

Tegn et kvadrat på papir.
Find derefter kortet "Kvadrat" og
se, om du har løst opgaven rigtigt.

2019 © mattip.dk

Opgave 6

Tegn et parallelogram på papir.
Find derefter kortet "Parallelogram"
og se, om du har løst opgaven rigtigt.

2019 © mattip.dk

Opgave 7

Tegn en cylinder på papir.
Find derefter kortet "Cylinder" og
se, om du har løst opgaven rigtigt.

2019 © mattip.dk

Opgave 8

Tegn en kegle på papir.
Find derefter kortet "Kegle" og se,
om du har løst opgaven rigtigt.

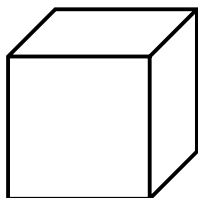
2019 © mattip.dk

Geometri 6 – tegn og match (svarkort)

Her er svarkort til Geometri 6. Din figur bør ligne den her viste, selvom de naturligvis ikke er helt ens.

Opgave 1 - svarkort

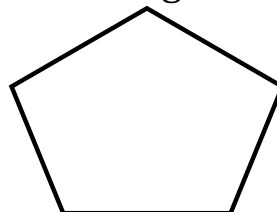
Kube



2019 © mattip.dk

Opgave 2 - svarkort

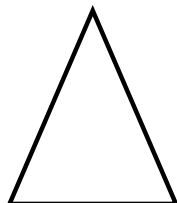
Pentagon



2019 © mattip.dk

Opgave 3 - svarkort

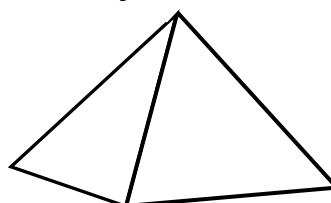
Ligebenet trekant



2019 © mattip.dk

Opgave 4 - svarkort


Pyramide



2019 © mattip.dk

Opgave 5 - svarkort

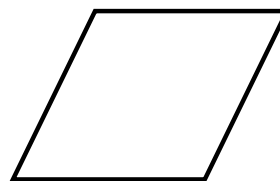
Kvadrat



2019 © mattip.dk

Opgave 6 - svarkort

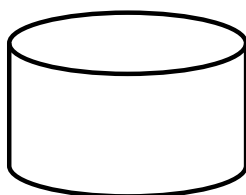
Parallelogram



2019 © mattip.dk

Opgave 7 - svarkort

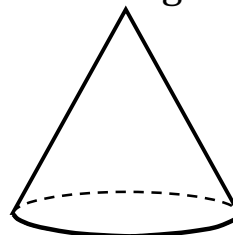
Cylinder



2019 © mattip.dk

Opgave 8 - svarkort

Kegle



2019 © mattip.dk