







Kan du finde...

Du skal udendørs og finde forskellige ting, hvor du i første omgang skal lave en vurdering på øjemål. Efterfølgende skal din vurdering tjekkes med et målebånd. Når du har målt tingen, skal du finde forskellen på det, du skulle måle, og hvad det faktisk målte.

Kan du finde...	Måletjek i cm	Forskel på det, du skulle måle, og dit måletjek i cm
en træstamme med en omkreds på 50 cm? 		
en træstamme med en omkreds på 120 cm? 		
en plante, der er 15 cm høj? 		
en sten, der har en længde på 8 cm? 		
en gren, der er 45 cm lang? 		
et blad, der er 12 cm langt? 		
en sti, der er 140 cm bred? 