


# KNUS DIN JUICE



## Prisliste - lille juice

Jordbær	9 kr.
Blåbær	13 kr.
Appelsin	6 kr.
Æble	5 kr.
Spinat	10 kr.
Avokado	15 kr.
Hindbær	7 kr.
Banan	4 kr.
Kiwi	4 kr.
Gulerod	3 kr.
Ananas	8 kr.
Grape	6 kr.
Ingefær	10 kr.
Kokosmælk	10 kr.
Minimælk	6 kr.
Appelsinjuice	12 kr.

Lille  
juice

Mellem  
juice

+ 25%

Stor  
juice

+ 40%



Opgave 1 - Hvad koster følgende? Rund op/ned til nærmeste kroner.

Jordbærbombe - lille

Jordbær  
Appelsin  
Minimælk



Pris: \_\_\_\_\_ kr.

Kiwikarma - mellem

Appelsin  
Kiwi  
Blåbær



Pris: \_\_\_\_\_ kr.

Orangesmash - lille

Appelsin  
Gulerod  
Ingefær  
Minimælk



Pris: \_\_\_\_\_ kr.

Sunset - lille

Hindbær  
Appelsinjuice  
Banan  
Appelsin



Pris: \_\_\_\_\_ kr.

Hulk - mellem

Kiwi  
Avokado  
Æble  
Spinat



Pris: \_\_\_\_\_ kr.

Pink lady - stor

Hindbær  
Grape  
Minimælk  
Ingefær



Pris: \_\_\_\_\_ kr.

Isbjørn - stor

Blåbær  
Kokosmælk  
Banan  
Æble



Pris: \_\_\_\_\_ kr.

Powerpuff - mellem

Jordbær  
Appelsin  
Grape  
Minimælk



Pris: \_\_\_\_\_ kr.



Opgave 2 – Udregn følgende. Rund alle priser op/ned til nærmeste kroner.

Mathilde og Simone besøger Knus din juice hver tirsdag efter skole, mens de venter på, at de skal til fodbold. De vil gerne fyldes med engeri inden træning og bestiller derfor hver en stor juice. Simone køber en stor "Powerpuff," og Mathilde køber en stor "Jordbærbombe."

- Hvad betaler Mathilde for sin juice?
- Hvor meget mere end Mathilde betaler Simone for sin juice?

Opgave 3 – Udregn følgende. Rund alle priser op/ned til nærmeste kroner.

Aleksander kan godt lide at drikke juice på Knus din juice. Sommetider kommer han alene, og sommetider kommer han med nogle venner. I dag er han alene afsted.

Aleksander køber en stor "Hulk," som er hans favorit. Aleksander har 200 kr. med.

- Hvor meget betaler Aleksander for sin juice?
- Hvor mange procent af de 200 kr. bruger Aleksander på juice?
- Hvor mange penge ville Aleksander have sparet, hvis han i stedet havde købt en lille "Hulk"?

Opgave 4 – Udregn følgende. Rund alle priser op/ned til nærmeste kroner.

Jeppe tjener lommepenge ved at gå tur med familiens hund og hjælpe til med oprydning og rengøring. På 4 uger tjener Jeppe 300 kr., og han vil gerne bruge nogle af sine penge på juice. Derfor inviterer han Katrine med på Knus din juice, hvor de begge bestiller en mellem juice. Katrine vælger en "Sunset," og Jeppe vælger en "Kiwikarma."

- Hvor meget betaler Jeppe for de to juice?
- Hvor mange store "Isbjørne" kan Jeppe købe for sine lommepenge for 4 uger?
- Hvis Jeppe køber store "Isbjørne" for alle sine lommepenge, har han så også råd til at købe én stor "Hulk"?


Opgave 5 – Udregn følgende. Rund alle priser op/ned til nærmeste kroner.

Petra arbejder på Knus din juice og laver juice til de mange kunder. Petra er glad for sit arbejde, og en af fordelene er, at hun sparer 15% på alle de juice, hun køber.

- Hvad betaler Petra for en stor "Pink lady"?
- Hvor mange penge sparer Petra på en mellem "Powerpuff" i forhold til normalprisen?




Opgave 6 – Hjælp med at blande juice. Fyld juice i glassene. Brug de rigtige farver.




Sweetie

15% æble (grøn)  
35% banan (gul)  
50% jordbær (rød)




Svend Stærk

10% ingefær (grå)  
20% ananas (gul)  
60% spinat (grøn)  
10% blåbær (blå)



Ananasdrøm

60% ananas (gul)  
10% hindbær (pink)  
25% avokado (grøn)  
5% grape (rød)



Byg selv

\_\_\_\_\_ % \_\_\_\_\_  
\_\_\_\_\_ % \_\_\_\_\_  
\_\_\_\_\_ % \_\_\_\_\_  
\_\_\_\_\_ % \_\_\_\_\_  
\_\_\_\_\_ % \_\_\_\_\_

