

# Månedsopgave 1

Navn og klasse: \_\_\_\_\_

## Opgave 1

### Maja holder høns



Maja kan godt lide dyr. Hun har 2 katte, 1 hund og 6 høns. Hønsene er hun meget glad for. De lægger æg, og dem kan Maja godt lide at spise. Majas høns lægger tilsammen 5 æg hver dag. Hun spiser selv to æg hver dag og giver resten til naboen.

a) Hvor mange ben har Majas dyr tilsammen? \_\_\_\_\_

b) Hvor mange æg lægger Majas høns på en uge? \_\_\_\_\_

c) Hvor mange æg spiser Maja på en uge? \_\_\_\_\_

d) Hvor mange æg får naboen hver uge? \_\_\_\_\_



## Opgave 2

Maja køber ofte foder til sine dyr. De spiser også nogle gange bare rester fra Majas mad. Hvis de ikke gjorde det, ville hun skulle købe dobbelt så meget. Du kan se på hendes indkøbsseddel, hvad foderet koster. Hun køber ind til en uge ad gangen.

*Husk at købe:*

*Kattemad 42 kr.*

*Hundemad 35 kr.*

*Foder til høns 25 kr.*

a) Hvor mange penge bruger Maja på mad til sine dyr hver uge? \_\_\_\_\_

b) Maja betaler ofte med en 500 kr. seddel, hvor meget får hun tilbage i byttepenge? \_\_\_\_\_

c) Når der er sommerferie, så køber hun 5 ugers mad på en gang. Hvad koster det? \_\_\_\_\_


d) Hvor meget skulle hun bruge på foder hver uge, hvis dyrene ikke fik rester? \_\_\_\_\_

# Månedsopgave 1

Navn og klasse:


## Opgave 3

Maja puster æg til påske. Bagefter maler hun dem med 3 farver. Æggene har hun malet to streger på for at opdele farverne.



a) Hvor mange forskellige påskeæg kan Maja lave, hvis alle 3 farver skal bruges hver gang?

b) Farv det antal påskeæg, Maja kan lave med tre farver.



c) Lav dit eget design af et påskeæg med 3 felter, der skal farves:

