



I hver historie er noget matematik. Læs teksten, find matematikken og løs opgaverne.

ØV DIG  
Matematikhistorier  
1F  
MED MATTIP




Købmanden har halv pris på slik og Jonas' mor køber 3 poser karameller til 30 kroner pr. pose. Hvor meget kommer hun af med efter rabatten er trukket væk?

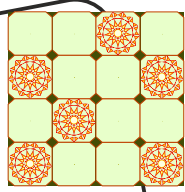


Lisa er 4 måneder ældre end Per. Per har fødselsdag i februar, og han prøver at regne ud, i hvilken måned Lisa har fødselsdag.

Kan du hjælpe Per?




De 24 børn i 3. klasse vil se, hvor lang en linje de kan lave af bananer. Hvert barn i klassen har en banan, som er cirka 20 cm lang. Hvor lang bliver linjen?



Oles far skal lægge fliser i familiens badeværelse. En flise er 25 cm på begge leder, og gulvet er 3 meter på begge leder.

Hvor mange fliser skal Oles far lægge i alt?



Mathilde har fri fra skole klokken 13:50 og kan være hjemme klokken 14:05. Herefter skal hun lave lektier i et kvarter.

Hvor lang tid er der nu gået siden hun havde fri?



1 liter mælk rækker til 5 gange morgenmad og holder i 5 dage. I Jannies køleskab er der lige nu 3 friske liter mælk, og der er 4 personer, der spiser morgenmad hver dag. Når mælken at blive for gammel?