



I hver historie er noget matematik. Læs teksten, find matematikken og løs opgaverne.

ØV DIG Matematikhistorier


11
MED MATTIP




Lone er ved at bage en kage. Hun skal hælde 2 kg mel i dejen, men da posen er tom, viser vægten kun 800g. Hvor meget mel mangler Lone for at kunne bage færdig?




Erik skal bruge sin computer i skolen, men den har kun 5% strøm. Hans lader kan lade helt op fra 0% på 2 timer, og Henrik kan nå at lade den i en halv time, før han skal køre. Hvor meget strøm er der på bagefter?



I et væddeløb deltager 4 drenge, A, B, C og D. A klarer turen på 2 minutter, B på det halve, C på det halve af B og D på det halve af C. Hvilken tid brugte D på løbeturen?



Lisas mor har lovet at bage kage til klassen. Der er 28 elever i klassen, og Lisa har fået til opgave at skære kagen ud. Kagen er firkantet, og Lisa har allerede delt den i 4 stykker på den ene led. Hvor mange stykker skal hun lave på den anden?



Isabella har fået 200 kroner i julegave. Hun vil bruge dem på smykkeperler, og lige nu er der tilbud: 1 pakke for 14 kr. Hun køber, så mange hun har råd til, men hvor mange penge er der nu til rest?



Hjemme hos Leif drypper vandhanen. Leif har regnet ud, at den drypper $\frac{1}{2}$ liter på 2 dage. Leif skal på ferie i nøjagtig en uge. Hvor meget vand er der dryppet ud, mens han har været væk?

