



I hver historie er noget matematik. Læs teksten, find matematikken og løs opgaverne.


ØV DIG
Matematikhistorier
1K
MED MATTIP



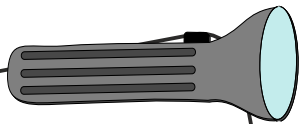
Ida får slik hver lørdag. Hun må vælge 2 poser slik, og hendes far har lagt 5 poser frem, hun kan vælge imellem. På hvor mange forskellige måder kan hun tage 2 poser slik?




I 3A går 25 elever. En dag tænker Jens over et regnestykke, som han stiller i klassen: Hvor mange ben har alle børn og deres forældre tilsammen? Kan du svare?



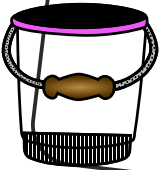
Palle har 130 kr. Han køber et æble til 2,50 kr., 4 pakker tyggegummi til 7 kr. stykket, 2 poser chips á 15 kr. og en stor sodavand, der koster 29,50. Hvor meget har han tilbage?



Karin har lige købt nye batterier til sin lommelygte. Hun har læst, at de holder til 8 timers brug. Når hun bruger den 20 minutter om dagen, hvor mange dage går der så, før den er løbet tør for strøm?



Hver lørdag og søndag klokken kvart over et om eftermiddagen starter Lukas sin avisrunde. Han er færdig kl. 14:45. Han tjener 100 kr. i timen. Hvor meget har han tjent på en 4 uger?



Lærke skal fylde en spand med $2\frac{1}{2}$ liter vand, men det eneste hun har at arbejde med, er et målebæger, der kan indeholde 200 ml. Hvor mange gange skal hun fylde målebægeret?