

Procent 11

Elevark

Opgave 1

Find procenterne:

a) 7% af 320 kr. = _____ kr.

d) 8% af 240 æbler = _____ æbler

b) 12% af 560 gram = _____ gram

e) 70% af 230 liter = _____ liter

c) 2,5% af 525 kr. = _____ kr.

f) 45% af 1200 euro = _____ euro

Opgave 2

Decimaltallet til... er:

a) 34% svar: _____

c) 28,62% svar: _____

e) 8,3% svar: _____

b) 134% svar: _____

d) 1234% svar: _____

f) 0,7% svar: _____

Opgave 3

Hvor mange procent udgør det første tal af det andet tal?

a) 4 af 5? = _____%

d) 15 af 25? = _____%

g) 12 af 20? = _____%

b) 5 af 4? = _____%

e) 34 af 200? = _____%

h) 9 af 36? = _____%

c) 3 af 8? = _____%

f) 40 af 50? = _____%


i) 2 af 50? = _____%

Opgave 4

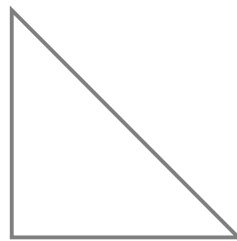
Farv den del af figurerne, procenttallet viser:




75%



37,5%



25%



40%

Opgave 5

Lav 3 forskellige brøker, der alle "udgør" 5%:

a) _____

b) _____

c) _____



2019 © mattip.dk

Husk at indberette dette ark til Copydan, hvis din skole er udvalgt til det.