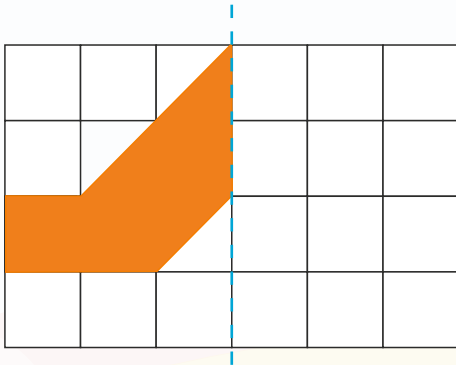


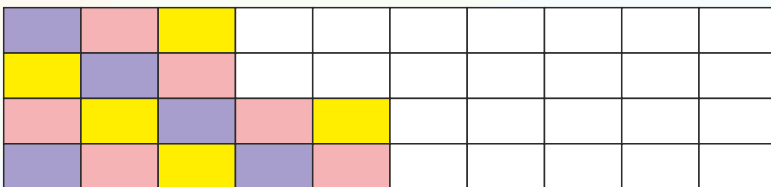
# REGN-BUEN 9

Navn: \_\_\_\_\_

1. Spejl figuren.



2. Fortsæt mønstret.



Hvad er det dobbelte?

3.  $62 \rightarrow$  \_\_\_\_\_

4.  $7,5 \rightarrow$  \_\_\_\_\_

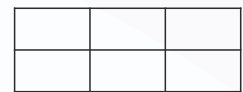
Sæt  $>$   $<$  eller  $=$

12.  $50 + 22$    $20 + 52$


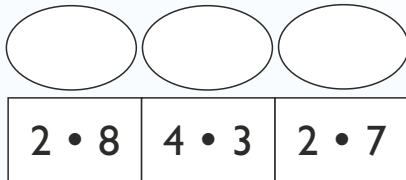
13.  $1,5 + 1,5$    $2 \cdot 2$



11. Farv  $\frac{5}{6}$  af figuren.



5. Regn stykkerne og placér dem efter størrelse. Det mindste først.



6. Udfyld funktionen:

+	40	50
25		
15		

Fortsæt talrækkerne.

14. 

18		12		6
----	--	----	--	---

15. 

	21	28		42
--	----	----	--	----



Point