



Hvor lang tid går der fra ...

1. Klokken 11:07 til 13:23 = _____ timer og _____ min.

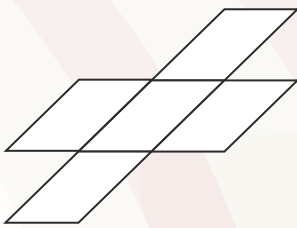
2. Klokken 19:15 til 03:14 = _____ timer og _____ min.

13. 0,02 m = _____ mm

14. 0,213 ton = _____ kg

15. 45 cm = _____ dm

3. Farv 30% af figuren.



16. En viking rider i 2 timer og 30 minutter. Han tilbagelægger 37,5 km på den tid. Hvad er gennemsnitsfarten?

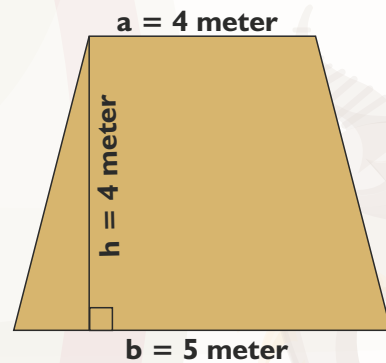
_____ km/timen



4. Hvad er 1,5% af 400 kr.?

5. Hvad er 75% af 60 kr.?

17. Et sejl på et vikingskib har følgende mål:



$$\frac{1}{2} \cdot (a+b) \cdot h$$

Hvad er sejlets areal? = _____ m²

6. $10^2 + 102 =$ _____

7. $10^2 + 10^2 =$ _____

8. $100^2 + 100^3 =$ _____


9. $69,44 + 17,97 =$ _____

10. $42,90 - 33,8 =$ _____

11. $75 \cdot 30 =$ _____

12. $378 : 9 =$ _____

Tegn vinkler, der passer.



18. $A = 135^\circ$

19. $B = 45^\circ$

20. Gennemsnittet af: -8, 6, 12, 2:
