



1. $12.381 + 8.974 =$ _____

2. $-2300 - 500 =$ _____

3. $530 \cdot 0,5 =$ _____

4. $448 : 8 =$ _____

Sigurd har en gård. Han har 12 høns, der alle lægger 2 æg om dagen.

12. Hvor mange æg har de lagt på et år? (52 uger). _____ æg

Sæt $>$ $<$ eller $=$

5. $4^2 + 4$ 12

6. 8,9 8,19

13. Hvis klokken er 09:30, hvad er den så om 9 timer og 35 minutter?

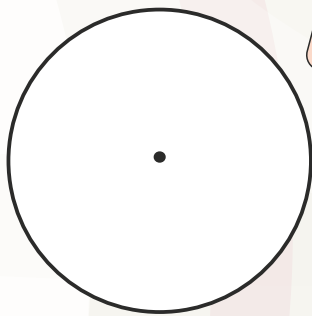
Så er klokken: _____

Reducér udtrykkene.

14. $45 + 6x + 12x - 34 - 7x =$ _____

15. $-14a + 32b + 52 + 12a - 18b =$ _____

Se på cirklen og svar. ($\pi=3$)




$O = d \cdot \pi$
 $A = \pi \cdot r^2$

7. Cirkelns diameter er: _____ cm

8. Cirkelns omkreds er: _____ cm

9. Cirkelns areal er: _____ cm^2

16. Hvad er afstanden fra a til b, hvis 2 cm = 5 km.




Afstanden er: _____ km

10. Gennemsnittet af:

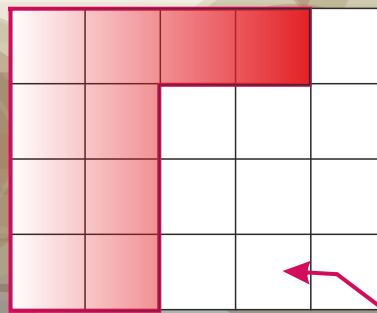
1,4 2,7 4,3 0,6 3,5

= _____



1,5 liter sodavand koster 27 kr.

11. Literprisen er = _____ kr.



19. Omkredsen af figuren: _____ cm

20. Arealet af figuren: _____ cm^2

17. $4 \frac{1}{4} + 2 \frac{3}{8} =$

18. $3 \frac{5}{7} - 2 \frac{1}{2} =$