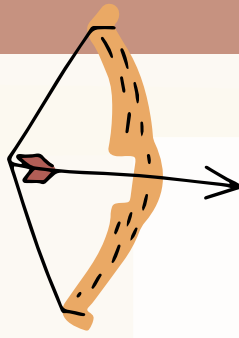


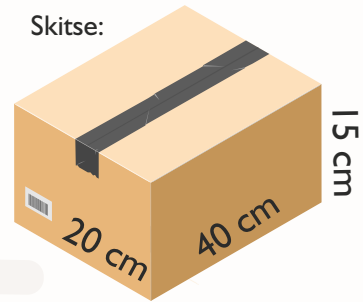
Omsæt til brøk og procent.

1. $0,55 = \frac{\quad}{\quad} = \quad\%$

2. $1,15 = \frac{\quad}{\quad} = \quad\%$



Skitse:



Indsæt +, - eller • så stykkerne går op:

3. $8 \cdot 6 \cdot 4 \cdot 2 = 30$

4. $4 \cdot 4 \cdot 4 \cdot 4 = 8$

9. Arealet af kassens top: $\quad\text{cm}^2$

10. Rumfanget af kassen er: $\quad\text{cm}^3$

100 sølvmønter (SM)
= 750 kobbermønter (KM).

5. $10 \text{ SM} = \quad \text{KM}$

6. $150 \text{ KM} = \quad \text{SM}$

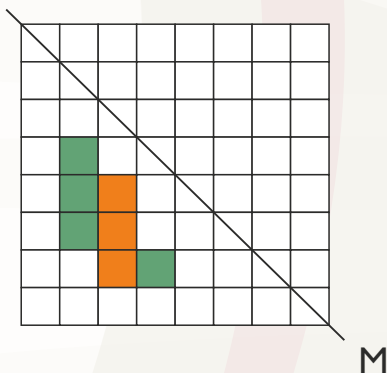
Loke siger til Thor: "Der er 50% chance for summen af øjnene er 8 eller over med to terning."

11. Er det sandt? \quad

12. Hvad er den mest sandsynlige sum at få i et slag med to terninger? \quad

13. Hvor mange forskellige udfald er der, hvis terningerne er ens? \quad stk.

7. Spejl figuren i linjen M:



14. $\sqrt{100} = \quad$

15. $10^2 = \quad$

16. $2^4 + 3^3 + 4^2 = \quad$

17. En trekant er 20 cm høj og har en grundlinje på 10 cm. Hvad er trekantens areal? $\quad\text{cm}^2$

18. Skriv de hele tal, der går op i 50:

8. Tegn et rektangel med en omkreds på 20 cm:

Hvad skal der stå på de tomme pladser?

19. $26 _ + 1 _ 8 = 400$

20. $4 _ 6 - _ 7 _ = 212$