

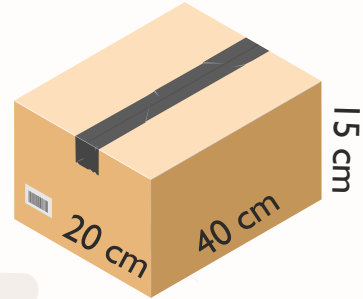
Regnarok 19

Navn: _____

Omsæt til brøk og procent.

1. $0,55 = \frac{\quad}{\quad} = \quad\%$

2. $1,15 = \frac{\quad}{\quad} = \quad\%$



Indsæt +, - eller \cdot så stykkerne går op:

3. $8 \quad 6 \quad 4 \quad 2 = 30$

4. $4 \quad 4 \quad 4 \quad 4 = 8$

100 sølvmønter (SM)
= 750 kobbermønter (KM).

5. $10 \text{ SM} = \quad \text{KM}$

6. $150 \text{ KM} = \quad \text{SM}$

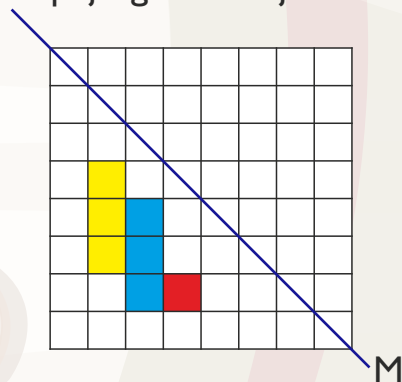
Loke siger til Thor: «Der er 50% chance for summen af øjnene er 8 eller over med to terning.»

11. Er det sandt? _____

12. Hvad er den mest sandsynlige sum at få i et slag med to terninger? _____

13. Hvor mange forskellige udfald der, hvor terningerne er ens? = _____ stk.

7. Spejl figuren i linjen M:



14. $\sqrt{100} = \quad$

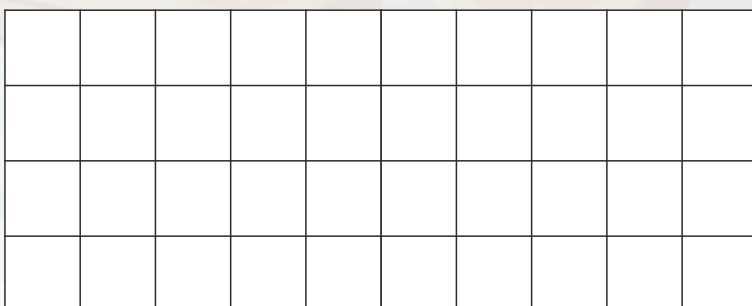
15. $10^2 = \quad$

16. $2^4 + 3^3 + 4^2 = \quad$

17. En trekant er 20 cm høj og har en grundlinje på 10 cm. Hvad er trekantens areal? _____ cm^2

18. Skriv de hele tal, der går op i 50:

8. Tegn et rektangel med en omkreds på 20 cm:



Hvad skal der stå på de tomme pladser?

19. $26 \quad _ + 1 \quad _ 8 = 400$

20. $4 \quad _ 6 - \quad _ 7 \quad _ = 212$



Point