

1. $733 + 898 + 300 =$ _____

2. $920 - 144 - 200 =$ _____

3. $19 \cdot 322 =$ _____

4. $2265 : 3 =$ _____

5. Skriv tallet, der består af:
8 enere, 2 tusinder, 3 hundreder.

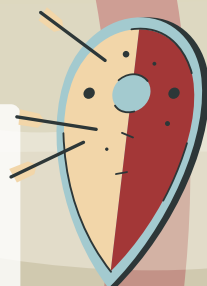
Forlæng brøken med 8.

6. $\frac{3}{5} =$ _____

Hvad er værdien af x?

7. $4x - 12 = 20$ $x =$ _____

8. $4x = 2x + 8$ $x =$ _____




En kube hvor alle sider er 40 cm ...

14. Har et bundareal på: _____ cm^2

15. Har et rumfang på: _____ cm^3

16. Farv 25% af figuren:



17. $\sqrt{81} + \sqrt{16} =$ _____

18. $8^2 =$ _____

19. $5^3 - 3^3 =$ _____

9. Gennemsnittet af:
64 17 83 92

20. Tegn to parallelle streger, der hver har en længde på 9 cm.

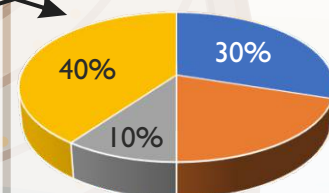
Her ser du den procentvise fordeling af dyr på en vikingegård. Der er 40 dyr i alt. Gul er høns, grå er heste, orange er køer, og blå er svin.

10. Hvilket dyr er der flest af på gården? _____

11. Hvor mange procent af dyrene er køer? _____ %

12. Hvor mange svin er der på gården? _____ stk.

13. Hvor mange procent udgør firbenede dyr på gården? _____ %



Point