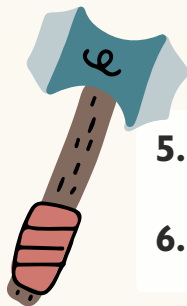


1. $67,25 + 12,8 =$ _____

2. $8,88 - 7,5 =$ _____

3. $(2 + 2) \cdot 8 - 9 =$ _____

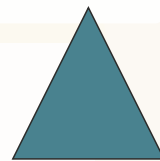
4. $16 + 8 : 4 - 2 =$ _____



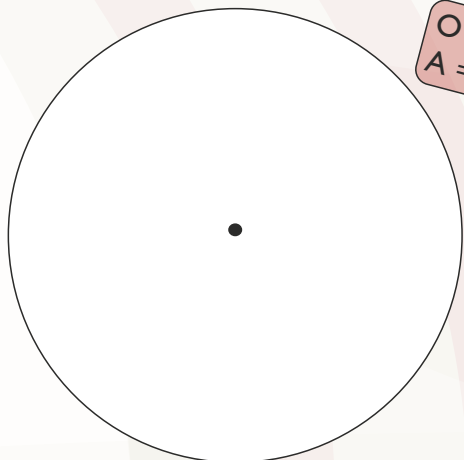
5. Hvad er 10% af 48 kg? _____ kg

6. Hvad er 3,5% af 1700 kr.? _____ kr.

10. Tegn figuren i 2:1.



Se på cirklen og svar. ($\pi=3$)



$O = d \cdot \pi$
 $A = \pi \cdot r^2$

7. Cirkelns diameter er: _____ cm

8. Cirkelns omkreds er: _____ cm

9. Cirkelns areal er: _____ cm^2

11. Hvad er figurens areal? _____ cm^2

Færdiggør talrækkerne.

12.

545		551	
-----	--	-----	--

13.

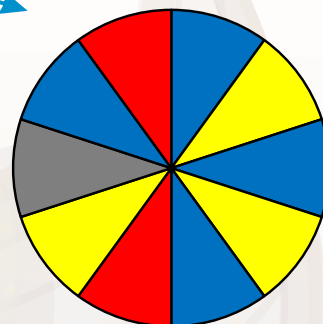
170	163	156	
-----	-----	-----	--

Et lykkehjul har farveindelingen, du kan se her.

14. Hvad er sandsynligheden for at ramme farven rød? _____ %

15. Hvad er sandsynligheden for at ramme blå (brøk)? _____

16. Hvad er sandsynligheden for ikke at ramme grå? _____ %



Hvor lang tid går der fra ...

17. Kl. 06:40 til 10:00? = _____ timer og _____ min.

18. Kl. 17:42 til 21:18? = _____ timer og _____ min.

19. $6 \cdot \frac{1}{3} =$

20. $7 \cdot \frac{5}{8} =$