

1. $10788 + 2902 =$ _____

2. $1008 - 709 =$ _____

3. $49 \cdot 50 =$ _____

4. $344 : 8 =$ _____

5. $5^2 + 2 + 2 \cdot 5 =$ _____

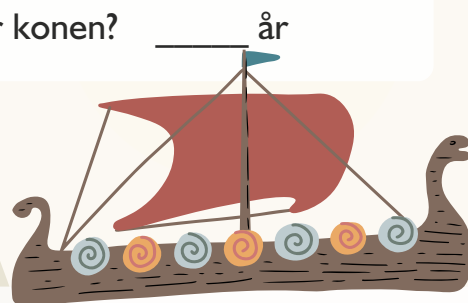
Asbjørn er 66 år gammel.

Asbjørns søns alder er en tredjedel af Asbjørns.

Asbjørns kone er 21 år ældre end sønnen.

6. Hvor gammel er sønnen? _____ år

7. Hvor gammel er konen? _____ år



8. $360 \text{ mm} =$ _____ m

9. $0,15 \text{ kg} =$ _____ gram

10. $15,5 \text{ cm} =$ _____ mm

Afrund til 2 decimaler.

11. $9,2539 \approx$ _____

12. $44,928 \approx$ _____


Hvad er værdien af skibet, øksen og skjoldet? Kun positive tal.


 +  -  = 0

 +  +  = 68

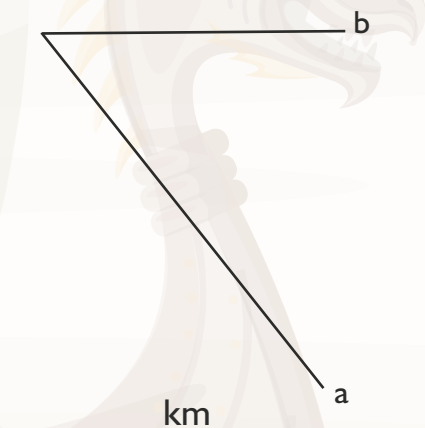
 +  -  = 30

13.  = _____

14.  = _____

15.  = _____

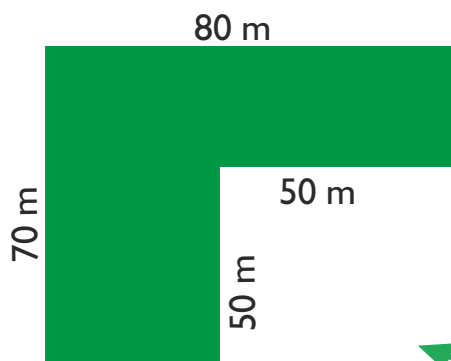
16. Hvad er afstanden fra a til b, hvis $2 \text{ cm} = 2,5 \text{ km}$?



17. Sæt ring om primtal.

3 22 15

4 7 11



Ulfs mark har størrelsen, du kan se på skitsen ovenfor.

18. Hvad er omkredsen af marken? _____ meter

19. Hvad er arealet af marken? _____ m²

20. Spejl figuren i linjen m.

