

REGN-BUEN 4

Navn: _____

1. $26 + 48 =$ _____




2. $36 - 12 =$ _____

3. $88 - 42 =$ _____

4. $4 \cdot 8 =$ _____

11. Hvad er værdien?

 +  = 8  = _____

 +  = 13  = _____

 +  = 15  = _____

Hvad skal der stå, for at stykkerne passer?

5. _____ 4 + 1 _____ = 50

6. 3 _____ + _____ 8 = 100

Fortsæt talrækkerne.

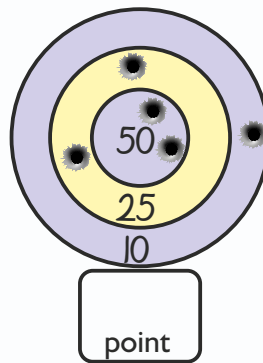
12.

9	12			21		
---	----	--	--	----	--	--

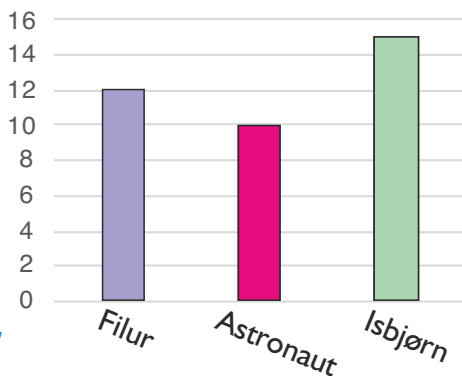
13.

	40	35		25		
--	----	----	--	----	--	--

14. Hvor mange point?



Pris på is



15. Hvor mange stjerner til hvert barn?



7. Hvad koster en Filur? = _____ kr.

8. Hvad koster to Isbørne? = _____ kr.

9. Hvad er forskellen i pris på en Isbjørn og en Astronaut? = _____ kr.

10. Hvad koster de tre is tilsammen? = _____ kr.

