

REGNCRAFT 1

1. $845 + 892 =$ _____

2. $1472 - 685 =$ _____

3. $69 \cdot 41 =$ _____

4. $228 : 6 =$ _____

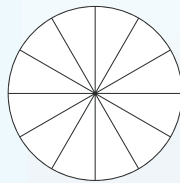
10. $3\frac{1}{4} + 3\frac{5}{7} =$

11. $8\frac{6}{9} + 3\frac{7}{9} =$

Forlæng brøken med 4.

5. $\frac{2}{7} =$ _____

7. Farv $\frac{2}{3}$ af figuren:




6. Klokken er 18:52. Hvad er den om 7 timer og 9 minutter?
Så er klokken: ____:____

Se på figuren og svar.

8. Rektanglets omkreds = _____ cm

9. Rektanglets areal = _____ cm²

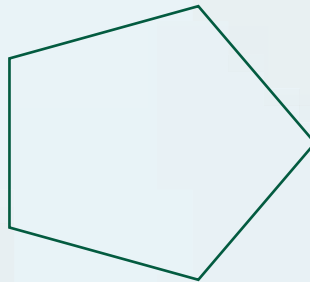


12. En bil har kørt 180 km på 3 timer.
Hvad er bilens gennemsnitsfart?
Gennemsnitsfarten er: _____ km/t

13. Farv tiendedele grå, sæt streg under tusinder og ring om tiere:

2916,45

14. Tegn figurens diagonaler



15. Sortér efter størrelse med mindste tal først:

0,4 -0,3 -1,1 0,2

Færdiggør talrækkerne.

16.

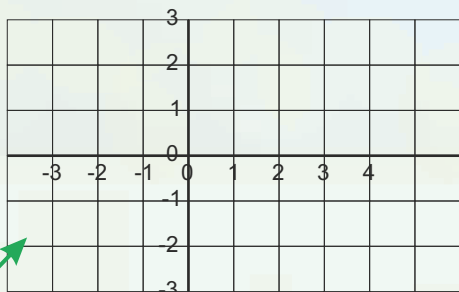
1,5		4,5	
-----	--	-----	--

17.

-18			0
-----	--	--	---

18. I en firkant er tre af vinklerne tilsammen 300°.

Hvad er den sidste vinkel? _____ °



Reducér udtrykkene.

19. $12x + 4y - 4 - 15x + 2y + 15 =$ _____

20. $4 + 7a - 3a + 7b - 3a + 8 - 10b =$ _____

Omskriv til decimaltal og procent.

24. $\frac{2}{5} =$ _____ = _____ %

25. $\frac{20}{25} =$ _____ = _____ %

21. Tegn en linje fra: $(-3;2) \rightarrow (6;-1)$

22. Tegn en ny linje fra: $(2;-2) \rightarrow (4;2)$

23. Punkt de to linjer krydser hinanden? (____;____)

Point