

REGNCRAFT 28

1. $64 \cdot 250 = \underline{\hspace{2cm}}$

2. $5296 : 8 = \underline{\hspace{2cm}}$

3. $7 + 4 \cdot 3 - 19 = \underline{\hspace{2cm}}$

7. $\frac{1}{3} \cdot \frac{3}{4} =$

10. 2,5 min = sek.

11. 340 ml = cl

12. 90 g = kg

13. 450 mm = m

Valutakursen på Pund (£) er kr. 8,75 og på Dollars (\$) kr. 6,00

4. Hvad koster €20 + \$55 i Danske kroner? =

5. Hvad koster £800 i Danske kroner? =

6. Hvor mange Dollars kan du få for 2520 kr.? =

Siw køber tre boller og to kopper kakao. Hun giver 48 kr. En kop kakao koster 2,5 gange mere end en bolle.

8. Hvad koster en bolle? kr.

9. Hvad koster en kop kakao? kr.

14. I en trekant er to af vinklerne tilsammen 95° .

Hvad er den sidste vinkel? $^\circ$

15. Et fly flyver 2000 km på 2,5 time. Hvad er flyets gennemsnitsfart?

Gennemsnitsfarten er: km/t

18. Hvis 30 gram udgør 15%, hvad udgør så 47% i gram?

 gram

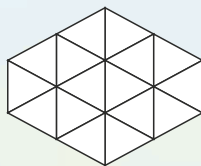
16. Tegn figuren i 4:1.



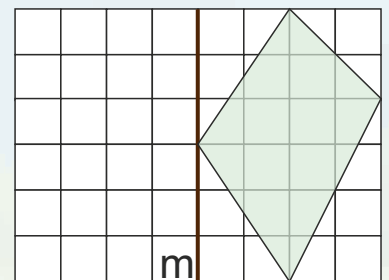
17. Find gennemsnittet.

30 5 46 45 24

20. Farv $\frac{3}{4}$ af figuren:



19. Spejl figuren i linjen m.



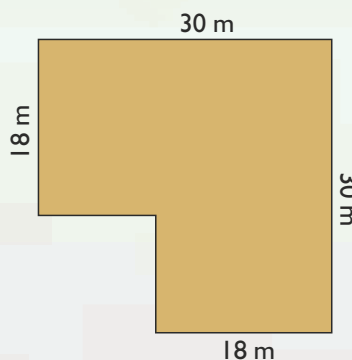
Se på skitsen af en husgrund.

21. Grundens omkreds: m

22. Grundens areal: m²

En familie vil bygge et hus på med en længde på 15 m og et grundareal på 135 m².

23. Hvad er husets bredde? m



24. $10^3 - 5^2 =$

25. $\sqrt{4} + \sqrt{64} =$

Point