


# REGNCRAFT 29



1.  $678 + 4342 = \underline{\hspace{2cm}}$

2.  $882 - 765 = \underline{\hspace{2cm}}$

3.  $-86 + 766 - 495 = \underline{\hspace{2cm}}$

4. 630 minutter =  $\underline{\hspace{1cm}}$  timer

5. 24 måneder =  $\underline{\hspace{1cm}}$  år

6. 21 dage =  $\underline{\hspace{1cm}}$  uger

7.  $430 - 789 = \underline{\hspace{2cm}}$

8.  $-65 - 17 = \underline{\hspace{2cm}}$

Skemaet viser, hvor mange økologiske rugbrød Bager Jørgen sælger over en uge. Rugbrødene koster kr. 29,50 pr./stk.

10. Antal solgte rugbrød i alt:  $\underline{\hspace{2cm}}$


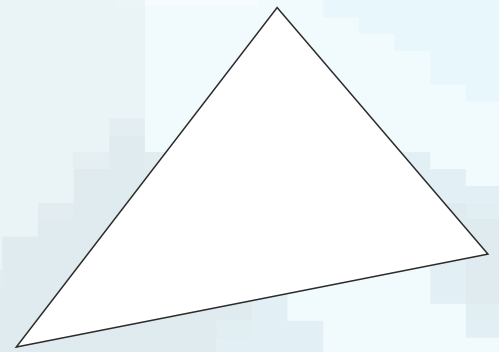
11. Variationsbredden:  $\underline{\hspace{2cm}}$

12. Gennemsnit antal solgte rugbrød/dag:  $\underline{\hspace{2cm}}$

13. Samlet omsætning lørdag:  $\underline{\hspace{2cm}}$

Mandag	8
Tirsdag	29
Onsdag	19
Torsdag	14
Fredag	15
Lørdag	24
Søndag	37

9. Tegn trekantens tre højder.

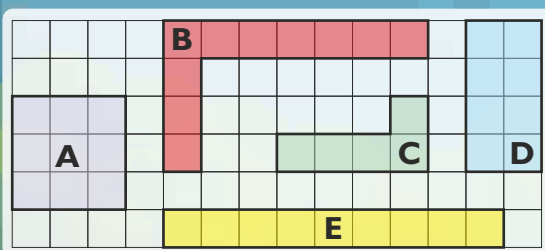


Din ven holder en ikke gennemsigtig pose med 20 stykker slik i samme størrelse. Der er 9 vingummier, 7 lakridser og 4 bolcher med kirsebærsmag.

14. Hvad er sandsynligheden for, at du trækker en lakrids?  $\underline{\hspace{2cm}}$

15. Hvad er sandsynligheden for at du *ikke* trækker et bolche?  $\underline{\hspace{2cm}}$

16. Sandsynligheden for at du trækker et bolche eller en vingummi?  $\underline{\hspace{2cm}}$



Se på figurerne og svar ...

19. Hvilke figurer har det samme areal?  $\underline{\hspace{1cm}}$  og  $\underline{\hspace{1cm}}$

20. Hvor mange figurer har samme omkreds?  $\underline{\hspace{2cm}}$

21. Hvilken figur har det største areal?  $\underline{\hspace{2cm}}$

22. Hvilken figur har den største omkreds?  $\underline{\hspace{2cm}}$

Hvad er værdien af x?

17.  $3x + 24 = 5x$   $x = \underline{\hspace{2cm}}$

18.  $24 : x + 7 = 13$   $x = \underline{\hspace{2cm}}$

1,5 kg kartofler koster 12 kr.

23. Hvad koster 1 kg?  $\underline{\hspace{2cm}}$  kr.

24. Hvad koster 0,5 kg?  $\underline{\hspace{2cm}}$  kr.

25. Hvad koster 50 kg?  $\underline{\hspace{2cm}}$  kr.

Point