

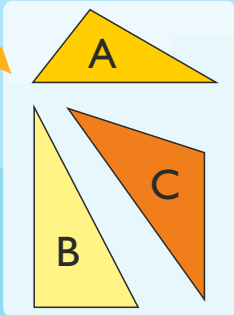
REGNCRAFT 30

Skriv A, B eller C:

1. Denne trekant er retvinklet: _____

2. Denne trekant er spidsvinklet: _____

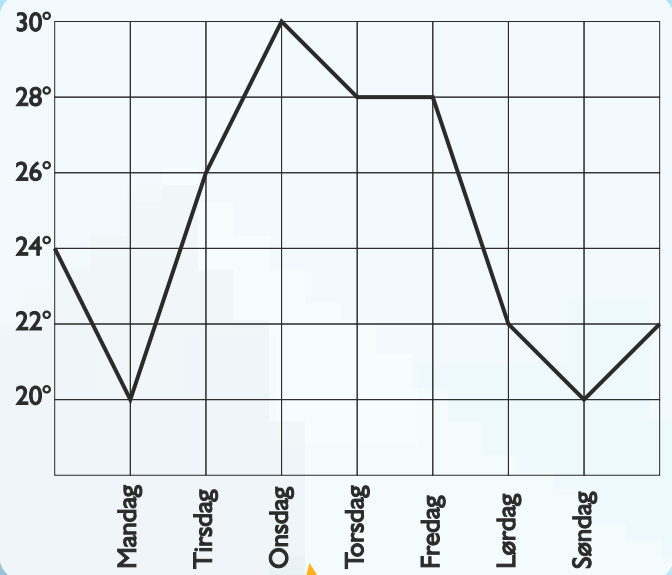
3. Denne trekant er stumpvinklet: _____



4. $1,25 : 10 =$ _____

5. $105 : 100 =$ _____

6. $45 \cdot 0,10 =$ _____



Sæt $>$ $<$ eller $=$

7. $\frac{2}{3}$ $\frac{3}{4}$

8. $\frac{1}{4}$ $0,25$

13. $10^2 - 8^2 =$ _____

14. $\sqrt{9} + \sqrt{9} =$ _____


En varm uge i juli kunne man aflæse følgende temperaturer hver dag kl. 15:00.

9. Hvilken dag var temperaturen 26° ? _____

10. Hvor meget faldt temperaturen fra fredag til lørdag? _____ $^\circ$

11. Hvad var variationsbredden? _____

12. Hvad var typetallet? _____



Se på følgende tal:

1,15 $1\frac{3}{10}$ 1,05 $1\frac{1}{5}$

15. Hvilket tal er størst? _____

16. Hvilket tal er mindst? _____

17. Angiv størrelsen på vinkel f.

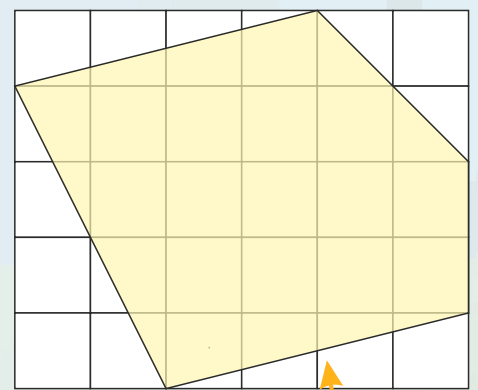


18. $\frac{4}{5} \cdot \frac{2}{3} =$ _____

Et rektangel har en længde på 16 cm og en bredde på 4,5 cm.

19. Rektanglets areal er _____ cm^2

20. Rektanglets omkreds er _____ cm



Se på figuren og svar ...

21. Hvad er arealet af femkanten? _____ cm^2

22. Tegn femkantens diagonaler.

Hvor lang tid går der fra ...

23. Kl. 15:55 til kl. 20:37? = _____ t. og _____ min.

24. Kl. 01:15 til kl. 03:20? = _____ t. og _____ min.

25. $1\frac{1}{2} + 3\frac{3}{7} =$ _____

Point