

REGNCRAFT 6

1. $4072 + 3306 =$ _____

2. $6622 - 4445 =$ _____

3. $19 \cdot 505 =$ _____

4. $258 : 3 =$ _____













Forkort mest muligt.

5. $\frac{54}{60} =$ _____

6. $\frac{65}{80} =$ _____

10. $20 - 6 \frac{6}{7} =$

Hvad er værdien af bomben, stjernen og hjertet?
(Alle tal er positive.)

	+		+		=	19		=	7.
	•		+		=	30		=	8.
	•		+		=	25		=	9.

Omskriv til decimaltal og procent.

11. $\frac{1}{20} =$ _____ = _____ %

12. $\frac{16}{25} =$ _____ = _____ %

Du har en mønt, som du kaster op i luften og ser, hvordan den lander.

13. Hvad er sandsynligheden for krone i første kast? = _____ %

14. Hvad er sandsynligheden for at slå krone og derefter plat? = _____ %

15. Tegn en retvinklet trekant med en grundlinje på 6 cm og et areal på 15 cm^2 .



Afrund til nærmeste hele tal.

17. $7,48 \approx$ _____ 18. $61,6 \approx$ _____

En hus er tegnet i størrelsesforholdet 1:40.
På tegningen er en væg i huset 12 cm lang.

19. Hvor lang er væggen i virkeligheden? _____ m

16. Hvad er trekantens højde? _____ cm

23. 56% af 1800 kr. = _____ kr.

24. 2,5% af 250 kilo = _____ kilo

Valutakursen på Britiske pund (£): $100\text{£} = \text{DKK } 890$.

20. Hvad koster £10 i danske kroner? = _____ kr.

21. Hvad koster £1000 i danske kroner? = _____ kr.

22. Hvor koster £150 i danske kroner? = _____ kr.

25. $8 \cdot \frac{8}{11} =$

Point