

# REGNCRAFT 6

1.  $4072 + 3306 =$  \_\_\_\_\_

2.  $6622 - 4445 =$  \_\_\_\_\_

3.  $19 \cdot 505 =$  \_\_\_\_\_

4.  $258 : 3 =$  \_\_\_\_\_













Forkort mest muligt.

5.  $\frac{54}{60} =$  \_\_\_\_\_

6.  $\frac{65}{80} =$  \_\_\_\_\_

10.  $20 - 6\frac{6}{7} =$

Hvad er værdien af bomben, stjernen og hjertet?  
(Alle tal er positive.)

	+		+		= 19		= 7.
	•		+		= 30		= 8.
	•		+		= 25		= 9.

Omskriv til decimaltal og procent.

11.  $\frac{1}{20} =$  \_\_\_\_\_ = \_\_\_\_\_ %

12.  $\frac{16}{25} =$  \_\_\_\_\_ = \_\_\_\_\_ %

Du har en mønt, som du kaster op i luften og ser, hvordan den lander.

13. Hvad er sandsynligheden for krone i første kast? = \_\_\_\_\_ %

14. Hvad er sandsynligheden for at slå krone og derefter plat? = \_\_\_\_\_ %

15. Tegn en retvinklet trekant med en grundlinje på 6 cm og et areal på  $15 \text{ cm}^2$ .



Afrund til nærmeste hele tal.

17.  $7,48 \approx$  \_\_\_\_\_    18.  $61,6 \approx$  \_\_\_\_\_

En hus er tegnet i størrelsesforholdet 1:40.  
På tegningen er en væg i huset 12 cm lang.

19. Hvor lang er væggen i virkeligheden? \_\_\_\_\_ m

16. Hvad er trekantens højde? \_\_\_\_\_ cm

23. 56% af 1800 kr. = \_\_\_\_\_ kr.

24. 2,5% af 250 kilo = \_\_\_\_\_ kilo

Valutakursen på Britiske pund (£):  $100\text{£} = \text{DKK } 890$ .

20. Hvad koster £10 i danske kroner? = \_\_\_\_\_ kr.

21. Hvad koster £1000 i danske kroner? = \_\_\_\_\_ kr.

22. Hvor koster £150 i danske kroner? = \_\_\_\_\_ kr.

25.  $8 \cdot \frac{8}{11} =$

Point