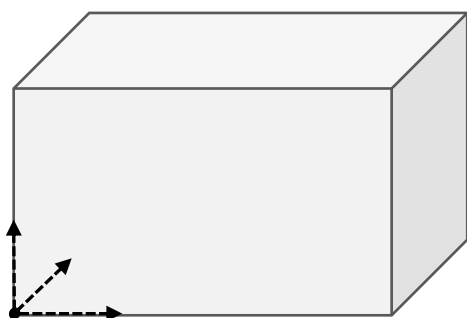
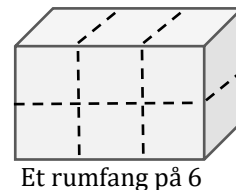



# Rumfang 3

## Opgave 1


Sæt streger, så antallet af "cubes", kassen består af, passer med tallet under. Cubes må gerne være forskellig størrelse fra kasse til kasse, men ca. lige store i den samme kasse.



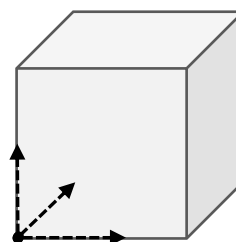
Et rumfang på 12



Et rumfang på 16



Et rumfang på 12



Et rumfang på 8

## Opgave 2

Udfyld skemaet så: Længde • Bredde • Højde = Rumfang

Opg.	Længde	Bredde	Højde	Rumfang
a	4 cm	40 mm	0,05 m	cm <sup>3</sup>
b	80 mm	5 cm	cm	240 cm <sup>3</sup>
c	cm	100 mm	0,20 m	5600 cm <sup>3</sup>
d	0,40 m	cm	100 mm	4000 cm <sup>3</sup>

## Opgave 3

Tegn selv kasser med det rigtige antal centicubes.

