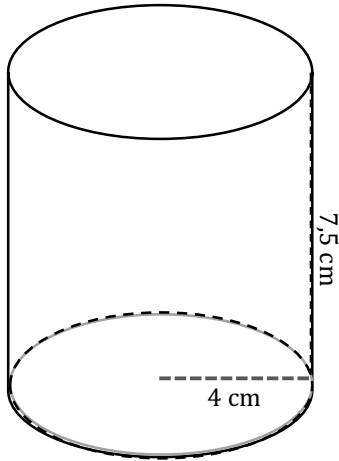


Rumfang 6

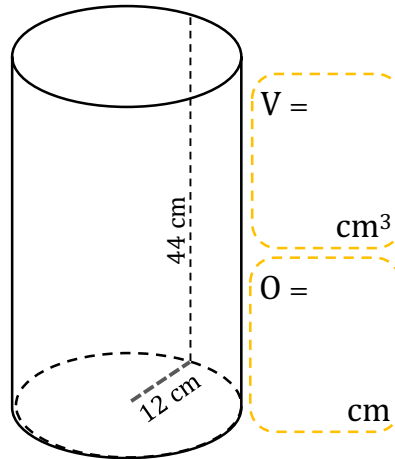
Opgave 1

Find rumfang (V) og omkreds (O):



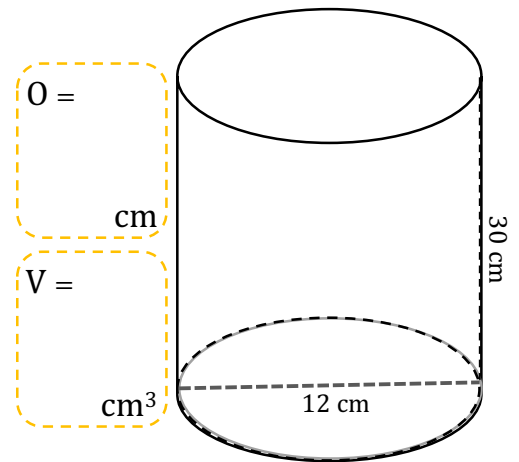
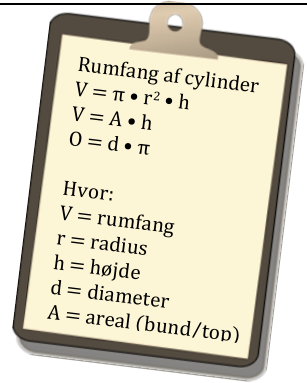
V =
 cm³

O =
 cm



V =
 cm³

O =
 cm



O =
 cm

V =
 cm³

Opgave 2

Tegn en kasse indenfor det stiplede felt. Du skal bruge de "vektorer", der er tegnet, til at danne kassens højde, længde og bredde. Kassen skal have det rumfang, der er angivet.

V =
 48
 cm³

V =
 24
 cm³

