

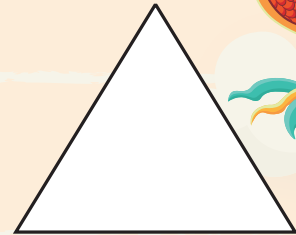

# SAMU-REGN 1

Navn: \_\_\_\_\_



1.  $362 + 17 =$  \_\_\_\_\_
2.  $210 - 60 =$  \_\_\_\_\_
3.  $5 \cdot 12 =$  \_\_\_\_\_
4.  $40 : 5 =$  \_\_\_\_\_
5.  $5,5 + 1,5 =$  \_\_\_\_\_

11. Del i to lige store dele:



6. Stregens længde = \_\_\_\_\_ cm

\_\_\_\_\_

12. 2 timer = \_\_\_\_\_ min.

13. 2 meter = \_\_\_\_\_ cm

14. 1 km = \_\_\_\_\_ m


15. 12 cm = \_\_\_\_\_ mm

7. Udfyld tallinjen.

|  |    |  |    |    |  |
|--|----|--|----|----|--|
|  | 16 |  | 24 | 28 |  |
|--|----|--|----|----|--|

8. Tegn et kvadrat med sidelængden 2 cm.

16. Mål omkredsen på figuren.




Omkredsen = \_\_\_\_\_ cm

17. Farv tierne røde:

920    70    1782

9. Tegn et rektangel med en bredde på 3 cm og en længde på 4 cm.

18. Farv 1/4 af felterne.



10. Sæt en ring om de lige tal:

46   43   5   32   7   50   1   8

Sæt > < eller =

19.  $5 \cdot 6$    $14 + 16$

20.  $42 + 4$    $53 - 6$



Point