

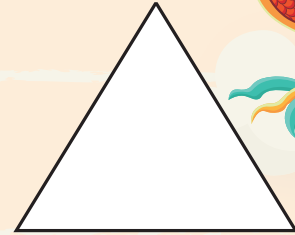

# SAMU-REGN 1

Navn: \_\_\_\_\_



- $362 + 17 =$  \_\_\_\_\_
- $210 - 60 =$  \_\_\_\_\_
- $5 \cdot 12 =$  \_\_\_\_\_
- $40 : 5 =$  \_\_\_\_\_
- $5,5 + 1,5 =$  \_\_\_\_\_

11. Del i to lige store dele:



6. Stregens længde = \_\_\_\_\_ cm



7. Udfyld tallinjen.

	16		24	28	
--	----	--	----	----	--

8. Tegn et kvadrat med sidelængden 2 cm.




12. 2 timer = \_\_\_\_\_ min.

13. 2 meter = \_\_\_\_\_ cm

14. 1 km = \_\_\_\_\_ m

15. 12 cm = \_\_\_\_\_ mm

16. Mål omkredsen på figuren.




Omkredsen = \_\_\_\_\_ cm


17. Farv tierne røde:

920 70 1782

9. Tegn et rektangel med en bredde på 3 cm og en længde på 4 cm.



18. Farv  $\frac{1}{4}$  af felterne.



10. Sæt en ring om de lige tal:

46 43 5 32 7 50 1 8

Sæt > < eller =

19.  $5 \cdot 6$    $14 + 16$

20.  $42 + 4$    $53 - 6$



Point